


महिना	अध्याय	प्रमुख शैक्षणिक सामर्थ्ये	शैक्षणिक कृती	मूल्यमापन
ऑक्टोबर	इतिहास 04 विजय नगर आणि बहामनी राज्य	<p>1. विजयनगर आणि बहामनी राज्याच्या स्थापनेबद्दल समजून घेतात.</p> <p>2. विजयनगर आणि बहामनी राज्याच्या वंशाबद्दल समजून घेतात.</p> <p>3. श्री कृष्णदेवराय यांच्या कामगिरी आणि त्यांच्या योगदानाबद्दल समजून घेतात.</p> <p>4. विजयनगर साम्राज्याच्या सांस्कृतिक योगदानाबद्दल जागृती निर्माण होते.</p> <p>5. बहामनी साम्राज्याच्या संस्कृती योगदानाबद्दल समजून घेतात.</p>	<p>1. विजयनगर साम्राज्याच्या संबंधित व्हिडीओ क्लिप प्रदर्शन <a href="https://youtu.be/JZ890naSUzU">https://youtu.be/JZ890naSUzU</a></p> <p>2. पाठांमध्ये आलेल्या प्रमुख पात्रांचे नाट्यीकरण करणे सांगणे.</p> <p>3. श्री कृष्णदेवराय यांच्या कामगिरी आणि योगदानाची यादी करणे.</p> <p>4. भारताच्या नकाशा मध्ये विजयनगर साम्राज्य आणि बहामनी राज्यातील ठिकाणे ओळखणे.</p> <p>5. अध्ययन स्थळांची व्यवस्था.</p> <p>6. विजयनगर आणि बहामनी राज्यांच्या संस्कृतीक योगदानाची यादी करण्यास सांगणे.</p> <p>7. हंपी या ठिकाणी प्रवास करण्याची व्यवस्था करून विद्यार्थ्यांना हंपी बद्दल एक अहवाल लेखन करण्यास सांगणे.</p> <p>8. वंशवृक्षांचे प्रदर्शन</p> 	<p>कृती 1 अभ्यास कागद 1 सोडवणे.</p> <p>कृती 2 DSERT ने सोडवलेले कागद क्रमांक 17,18,19,2 21,22,23 व 24 मध्ये पहाणे.</p> <p>कृती 3 अभ्यास कागद 43 व 47 पान पाहणे.</p>

1. दिलेल्या कुटुंबवृक्षातील विजयनगर काळातील महत्त्वाच्या कुटुंबांची नावे सांगा.

# विजयनगरचे साम्राज्य

संगम



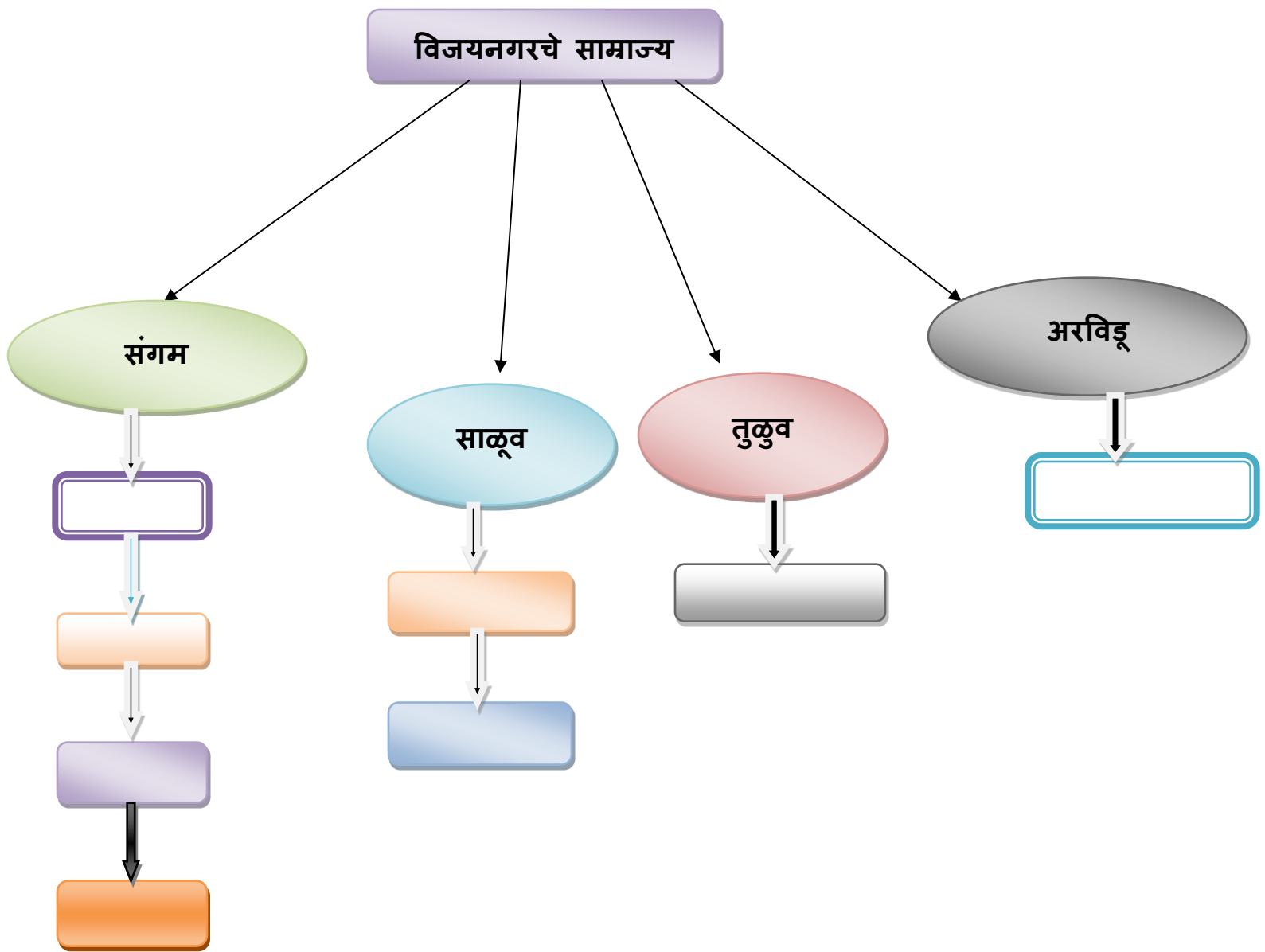
साळूव



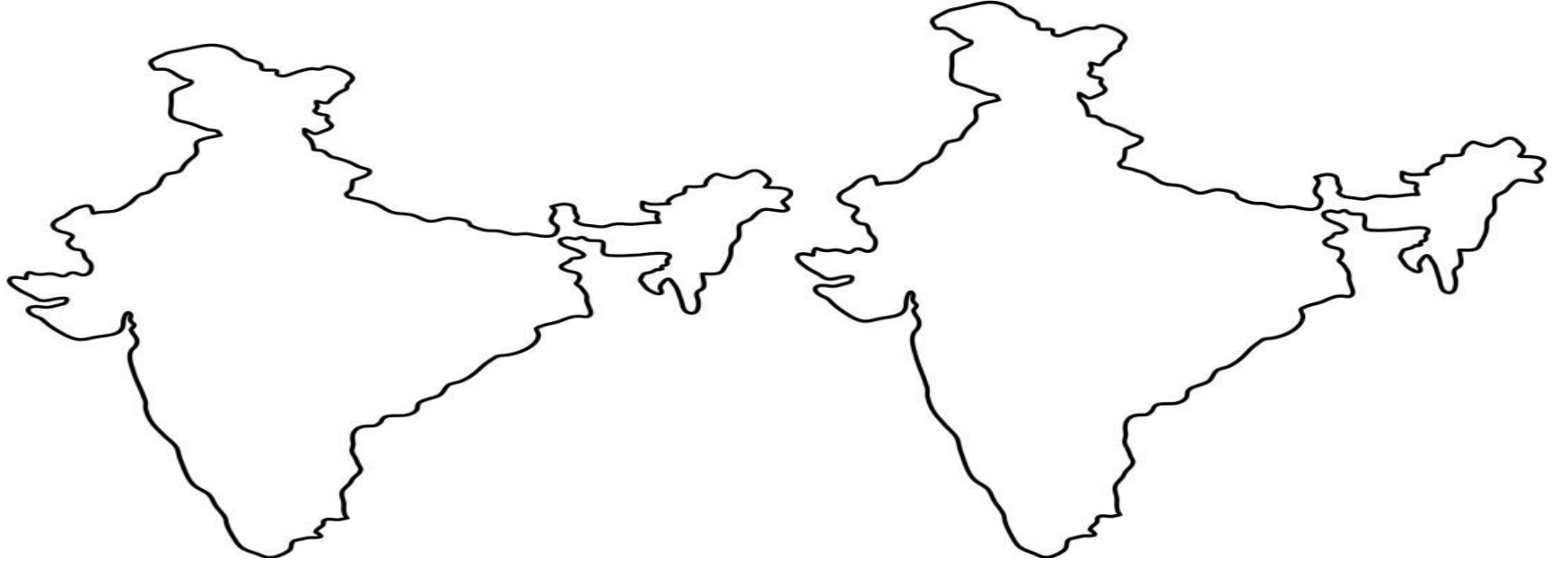
तुळुव



अरविडू



2. भारताच्या नकाशामध्ये विजयनगर साम्राज्य आणि बहामनी साम्राज्याच्या सीमा दर्शविणे.



3. खालील चित्र ओळखून त्याबद्दल टिप्पणी लिहा.



4. खालील तक्ता पुस्तकांच्या सहाय्याने पूर्ण करा.

साम्राज्य	संस्थापक	स्थापन केलेले वर्ष	राजधानी	नदीचा किनारा	राजमुद्रा	प्रसिद्ध राजा
विजयनगर साम्राज्य						


4.वंशावळी	प्रसिद्ध राजे
1.संगम	
2.साळूव	
3.तुळूव	
4.अरविडू	

ठिकाण	शाही घराणे	संस्थापक
1.विजयपुर		
2.बिदर		
3.गोळकोंडा		
4.अहमदनगर		
5.बिरार		


कृती साहित्य	कवी
मधुरा विजयम	
अमुक्तमाल्यादा	
शिवतत्त्व चिंतामणी	
प्रभुलिंग लिले	

प्रश्न	उत्तरे
1. दक्षिण भारताचे ताजमहल?	
2. जगातील बादशहा अशी पदवी कोणाला दिली होती?	
3. गोल घुमट कोणी बांधला?	

2.विजयनगर आणि बहामनी साम्राज्यातील स्मारकांची शिक्षकांच्या साहाय्याने नावे लिहा.



5. हे खालील चित्र ओळखून त्याबद्दल टिपणगी लिहा.



6. खालील मदरशाची स्थापना कोणी केली?

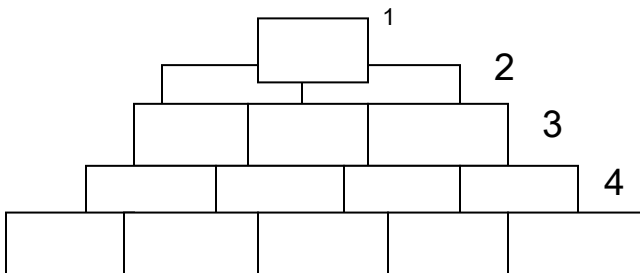


महिना	अ ध्या य	प्रमुख शैक्षणिक सामर्थ्ये	शैक्षणिक कृती	मूल्यमापन
ऑक्टोब	राज्य शासन अध्या	1. राज्य शासकांगामध्ये विधानसभा विधान परिषद	1.सभा विधान परिषदेशी संबंधित गटर रचना करून चर्चा करणे. 2. विधानसभा आणि विधान परिषद मधील सदस्यांच्या पात्रतेची यादी करण्यास सांगणे 3. सानुकूल मोडेम सत्र आयोजित करणे.	कृती 1 अभ्यास

	<p>राज्य सरका मधील स्वरूपाबद्दल समजून घेणे.</p> <p>2. विधानसभा आणि विधान परिषदेचे सभासद होण्यासाठी आवश्यक पात्रता अधिकारांचा कालावधी कामकाजाबद्दल समजून घेणे.</p> <p>3. राज्य कार्यागामध्ये राज्यपालाची पात्रता आणि कामकाजाबद्दल समजून घेणे.</p> <p>4. मुख्यमंत्री यांची नेमणूक आणि अधिकार त्यांच्या कामकाजाबद्दल माहिती देणे.</p>	<p>4. राज्यपाल आणि मुख्यमंत्र्यांचे अधिकार कामकाजाची यादी तयार करण्यास सांगणे.</p> <p>5. कर्नाटकाचे राज्यपाल आणि मुख्यमंत्री यांचा तक्ता तयार करण्यास सांगणे.</p>	<p>कागद 1 सोडविणे..</p> <p><b>कृती 2</b></p> <p>DSERT सोडवलेले अभ्यास कागद क्रमांक 47,48, 49 व 50 सोडवणे.</p> <p><b>कृती 3.</b></p> <p>अभ्यास कागद 52,53, 54 व 55 सोडवणे..</p>
--	--	---	--

### मौल्यमापन राज्यशास्त्र अध्याय 3 राज्य सरकार

1. खालील पिर्यामिड पूर्ण करा.



1. विधानसभा सदस्यांची कमीत कमी वयोमर्यादा (1)
2. निवडणुकीमध्ये मतदान करणारे (2)
3. विधान परिषदेला असेसुद्धा संबोधतात. (3)
4. कर्नाटकाची राजधानी (4)
5. मुख्यमंत्र्यांची नेमणूक करणारे (5)

खाली दिलेल्या लघुरूपांचा विस्तार करा.

1. एम. एल.ए :-----
2. एम.एल.सी :-----

3. चित्र पाहून योग्यरीत्या जोडून नंतर त्यांची नावे लिहा.

	कर्नाटकचे राज्यपाल	
	कर्नाटकचे शिक्षण मंत्री	
	कर्नाटकचे मुख्यमंत्री	
	कर्नाटकाचे उच्च न्यायालय	



## कर्नाटकाची विधानसौध

### 4. तत्ता पूर्ण करा

क्रम संख्या	सदनांची नावे	सदस्यांची संख्या	सदस्यांचा कालावधी
1.	विधानसभा		
2.	विधान परिषद		

1. खालील दिलेल्या सरकारच्या तीन हंगाम बद्दल अधिक माहिती जाणून घ्या.

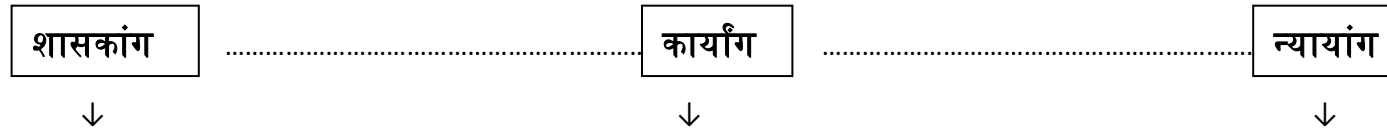
1. शासकांग
2. कार्यांग
3. न्यायांग

2. केंद्र सरकारच्या माहितीचे निरीक्षण करा व राज्य सरकारची माहिती भरा.

### अधिकाराचे विभाग



### राज्य सरकार





3. खाली दिलेली चित्रे ओळखून ती कोठे आहेत ते लिहा.



महिना	अध्याय	प्रमुख शैक्षणिक सामर्थ्ये	शैक्षणिक कृती	मूल्यमापन
-------	--------	---------------------------	---------------	-----------

<p>ऑक्टोबर</p>	<p>भूगोल शास्त्र अध्याय 4</p> <p>कर्नाटकातील पाण्याची स्तोत्रे</p>	<ol style="list-style-type: none"> <li>1. कर्नाटकातील प्रमुख नद्या बद्दल समजून घेणे.</li> <li>2. कर्नाटकातील सिंचन पद्धती बद्दल समजून घेणे.</li> <li>3. पाण्यापासून विद्युत शक्ती तयार करणाऱ्या केंद्राबद्दल अधिक माहिती समजून घेणे.</li> <li>4. कर्नाटकात कोणकोणती प्रमुख धरणे आहेत त्याबद्दल माहिती समजून घेणे.</li> <li>5. नद्यांच्या पाणी वाटपाचा वाद आणि नद्यांच्या पाण्याचे संरक्षण यांचे महत्त्व याबद्दल जाणून घेणे.</li> </ol>	<ol style="list-style-type: none"> <li>1. कर्नाटकाच्या नद्या संदर्भातील व्हिडिओ दर्शविणे. <a href="https://youtu.be/lw8nJRqF9-c">https://youtu.be/lw8nJRqF9-c</a></li> <li>2. कर्नाटकातील पूर्वाभिमुख आणि पश्चिमाभिमुख वहात असलेल्या नद्यांची यादी तयार करणे.</li> <li>3. कर्नाटकातील प्रमुख सिंचन योजने बद्दल माहिती संग्रहित करण्यास सांगणे.</li> <li>4. कर्नाटकातील जलविद्युत निर्मिती केंद्रांची यादी तयार करण्यास सांगणे.</li> <li>5. कर्नाटकातील सीमा राज्य संबंधित पाणी वाटपाचा वाद मोठ्या प्रमाणामध्ये होत असल्यामुळे याबद्दल चर्चासत्र आयोजित करणे.</li> <li>6. नद्यांच्या पाण्याचे संरक्षण करण्याच्या पद्धतींची यादी करणे.</li> </ol>	<p><b>कृती 1</b> अभ्यास कागद 1 सोडविणे..</p> <p><b>कृती 2</b> डी DSERT ने सोडवलेले पेपर क्रमांक 103,104, 105, 106 व 107 सोडविणे.</p> <p><b>कृती 3</b> अभ्यास कागद पान नंबर 59,60,61, 62 व 63 सोडविणे.</p>
----------------	--	--	---	---

मूल्यमापन - भूगोल शास्त्र अध्याय 4 कर्नाटकातील पाण्याची स्तोत्रे

1. कर्नाटकाच्या नकाशा मध्ये प्रमुख नद्या दर्शवा.



2. खालील नद्यांमध्ये पूर्वाभिमुख आणि पश्चिमाभिमुख वाहणाऱ्या नद्या ओळखा.  
कृष्णा, कावेरी, शरावती, काळी पेन्नर, पालार, गंगावली, अघनाशिनी, वराही

पूर्वाभिमुख वाहणाऱ्या नद्या	पश्चिमाभिमुख वाहणाऱ्या नद्या

3. तुंगा, भद्रा, शरावती, वेदावती, कुमुध्वती, त्रेदावती, वरधा, दंडावती या नद्या कोणत्या जिल्ह्यामध्ये वाहतात सांगा.

4. जोड्या जुळवा


अ

1. खूप उंच कलवा
2. खूप मोठा तलाव
3. सर्वाधिक विहीर सिंचन

ब

- अ. बेळगाव
- ब. रायचूर
- क. शिवमोगा

5. चित्र पाहून धबधब्यांच्या जोड्या जुळवा.

	→	गोककचा धबधबा
	→	जोगचा धबधबा
	→	शिवसमुद्रम धबधबा
	→	उचळ्ळी धबधबा
	→	अंब्ली धबधबा

6. कर्नाटकातील प्रमुख सिंचन योजनांची नावे सांगा.

7. विवादात्मक ही नदी कोणती ओळखा?

