



GRADE VII

متبادل تعلیمی منصوبہ برائے سال 2021-22 ماہ فروری

مضمون سماجی سائنس

جماعت ہفتم

نمبر شمار	ہفتہ / ماہ	اہم اکتسابی صلاحیتیں	اکتسابی سرگرمیاں	محاسبہ	
1	فروری	<b>کرنائک سماج کے حامی تحریکیں</b> (1) ماحولیاتی تحریک کو کچھ مثالوں کے ساتھ جانیں گے	(1) ہماری ریاست یا ملک میں ہونے والی تحریکیں، احتجاج وغیرہ کے وجوہات کے متعلق اپنے جماعت ساتھیوں سے بحث کریں گے	مشقی صفحہ نمبر 1	
			(2) کرنائک میں سن 1970 میں ہونے والے اہم ماحولیاتی تحریکوں کے نام بتاؤ		
			(3) چیکو تحریک کی وجہ سے بننے والے عوامل کو سمجھائیں		
		(2) خواتین کو خود کفیل بنانے کے لئے حکومت سے اٹھائے گئے اقدام کا سرسری جائزہ کی ستائش کریں گے	(4) ماحول کا تحفظ کے متعلق سبق دینے والی ساومردا تمکا، کے کارناموں پر بحث کریں		
			(5) ماحول کی حفاظت، کے کیا کیا اقدامات اٹھا سکتے ہیں اس کی فہرست بنائیں		
			(6) مختلف شعبوں میں کام کرنے والی خواتین کی فہرست بنائیں		
		(3) طلباء کسان کے تحفظ کے لئے چلائی گئی تحریکوں کے متعلق معلومات حاصل کریں گے	(7) کسانوں سے ملاقات کر کے ان کی زراعت سے جڑے مسائل کی فہرست تیار کریں گے		
			(8) کسان تحریک سے جڑی معلومات اکٹھا کریں گے		
		(4) دلتوں کی تحریکوں کو جانیں گے	(9) دلت تحریکوں کی آغاز کے وجوہات کو سمجھائیں گے		
			(10) دلت تحریکوں کے اہم وظیفوں کے نام لکھیں		
		(5) کنڑا کا لو تحریکوں کی موجودہ حالات کے متعلق جانیں گے اور دلچسپی لیں گے	(11) کنڑا تحریکوں کی اہم عوامل کی فہرست بنائیں		
			(12) گوکاک تحریک کی اہم خصوصیات کو سمجھائیں		

	13) گوکاک تحریک میں حجاج کرنے والے اہم لیڈران کے نام لکھیں			
	14) پنچایت راج نظام انتظامیہ کی لامرکزیت کے لئے مددگار ہے بحث کریں	6) پنچایت راج نظام کی ضرورت کو جانیں گے		
مشقی صفحہ نمبر 2	15) آپ کے گاؤں کے گرام پنچایت کی تشکیل اور کارگزاریوں کے تعلق سے معلومات اکٹھا کریں گے <a href="https://youtu.be/1vNLmsjEQel">https://youtu.be/1vNLmsjEQel</a>			
	1) طلباء اپنے باپ دادا کے دور کے کسانوں کی حالات زندگی کا جائزہ لیں گے	<b>کرنٹک میں اقتصادی اور سماجی تبدیلی</b> 1) آزادی کے بعد کرنٹک میں سماجی اور اقتصادی شعبہ جات میں انجام دیئے گئے کارناموں کی جانکاری حاصل کریں گے	2	
	2) ارضی اصلاحات کے معنی کیا ہیں؟ اہم ارضی اصلاحات کے نام بتاؤ	2) زمیں کی ترقی کے لئے بنائے گئے قوانین اور اثرات کو جانیں گے		
مشقی صفحہ: 1:	3) ایک کنبہ کے لئے زیادہ سے زیادہ زمیں کی ملکیت ارضی کی حد بندی حکومت کرنٹک نے کس لئے مقرر کی ہے وجوہات اکٹھا کریں			
	4) 1974ء کے اہم ارضی اصلاحات کے عوامل کی فہرست بنائیں			
	5) معاشی ارضی کی تخلیق سے کسانوں کی زندگی میں سدھار آ رہا ہے اس پر بحث کریں			
	6) 1974ء میں زمین کی زیادہ سے زیادہ حد کو سمجھائیں اس کے اثرات کے متعلق بحث کریں			
	7) اہم پیمانہ طبقات کی کمیشن کے نام لکھئے	3) پیمانہ کمیشن کی خدمات کو سمجھانا۔		
مشقی صفحہ: 02:	8) ایل جی ہانور کمیشن نے پیمانہ کی پہچان کس طرح کی بتائیں			
	9) مندرجہ ذیل لیڈران کی تصاویر اور معلومات کے ساتھ اہم تیار کریں * بی۔ ڈی۔ جتی * ایم بسوینا * ساور کرچنیا * ڈی۔ دیوراج ارس * ایل۔ جی۔ ہانور <a href="https://youtu.be/upqWt6Y9">https://youtu.be/upqWt6Y9</a>			
	1) انٹارکٹیکا کا محل وقوع اور رقبہ کے متعلق سمجھائیں گے	<b>انٹارکٹیکا سفید براعظم</b> 1) براعظم انٹارکٹیکا محل وقوع، رقبہ اور جغرافیائی ماحول کو جانیں گے۔	3	
	2) براعظم انٹارکٹیکا کے اطراف سے گھرے سمندروں کے نام لکھیں			
مشقی صفحہ: 01:	3) انٹارکٹیکا براعظم کے دو طبعی حصوں کے نام لکھیں			

	4) برا عظم انٹارٹیکا کو سرد برا عظم، گریٹر انٹارٹیکا اور سائینسی تجرباتی برا عظم کہے جانے والے وجوہات پر بحث کریں گے	2) انٹارکٹیکا کے طبعی خصوصیات زمین اور پانی کے بارے میں جانیں گے		
	5) برا عظم انٹارٹیکا کے اہم نباتات اور حیوانات کے نام لکھیں	3) قدرتی نباتات کے اور حیوانات کو جانیں گے		
	6) برا عظم انٹارٹیکا کے اہم پہاڑ اور پہاڑی چوٹیوں کو جانیں گے			
مشقی صفحہ: 02	7) برا عظم انٹارٹیکا میں موجود ہندوستانی تجرباتی (تحقیقاتی) مراکز کے نام لکھیں	4) برا عظم انٹارٹیکا کی دریافت اور تجرباتی مراکز کے متعلق جانیں گے۔		
	8) برا عظم انٹارٹیکا میں قائم ہونے والے مختلف ممالک کے تحقیقاتی مراکز کے تصویروں کو جمع کر کے فہرست تیار کیجئے <a href="https://youtu.be/z/CwsG3YoDc">https://youtu.be/z/CwsG3YoDc</a>			

### متبادل تعلیمی منصوبہ تیار کرنے میں درج ذیل افسران اور اساتذہ کا تعاون رہا۔

محترم ایس۔ پی۔ باڈگنڈی ڈی۔ ڈی۔ پی۔ آئی ترقیات ڈائنٹ پر نسل و جے پور	محترم این۔ وی۔ ہو سو رڈی۔ ڈی۔ پی۔ آئی انتظامیہ و جے پور۔
محترم عبدالرحیم۔ ایم ڈائنٹ بکچر و جے پور	محترم ضیا الحق ستار میکر۔ اُردو رابطہ کارڈی ڈی پی آئی آفس و جے پور۔
محترم جاوید اختر عطار سرکاری اودھانہ پرنٹری اسکول۔ اگلی ہون باگواڑی، و جے پور	محترم محمد عمر شیخ سرکاری اُردو ہانہ پرنٹری اسکول کو کٹنور۔ سندگی، و جے پور
محترم احمد حسین ہونگلی سرکاری اُردو ہانہ پرنٹری اسکول۔ اگلی ہون باگواڑی، و جے پور	

۱۔ مندرجہ ذیل "الف" سے تعلق رکھنے والے "ب" کے نکات کو جوڑ لگائیں۔

الف

1 - پنچایت راج نظام

2- پیڑوں کی ماں

3- چیکو تحریک

4 - شہر مینگلور کی پہلی خاتون میر

5- کسان تحریک

ب

سوندر لال بہوگنا

اندرما

سالو مرد ہتھکا

بیم۔ ڈی۔ ننجٹ سوامی

نذیر صاحب

II- ذیل کے سوالات ایک جملے میں دیں۔

1 - ہمارے ملک کی ریڈ کی ہڈی کس کو کہا جاتا ہے؟

جواب : .....

2 - کاروان میں موجود بحری بیڑے کا نام لکھیں۔

جواب : .....

3 - گوکاک کی تحریک کن کی رہنمائی میں ہوئی؟

جواب : .....

4 - "دلیتوں کا سورج" کے لقب سے کس کو نوازا گیا؟

جواب : .....

5 - سماجی جنگل سے کیا مراد ہے؟

جواب : .....

### III- مندرجہ ذیل سوالات کے جوابات دو یا تین جملوں میں دیں۔

1- ماحول کی حفاظت کے لئے ہم کیا اقدامات اٹھا سکتے ہیں؟ فہرست بنائیں۔

جواب: -----

-----

2- ماحول کی حفاظت اور اہمیت کا سبق دینے والے سالو مرد تمکا کے کاناموں پر بحث کریں۔

جواب: -----

-----

3- گوکاک تحریک میں حصہ لینے والے اہم رہنماؤں کے نام لکھیں۔

جواب: -----

-----

4 - کرناتک حکومت کی جانب سے حال ہی میں جاری کردہ کسانوں کے بچوں کو اعلیٰ تعلیم کے لئے مراعت اور وظیفہ (اسکالرشیف) اسکیم کے متعلق معلومات اکٹھا کریں۔

جواب: -----

-----

### IV- معلومات کو اکٹھا کریں۔

1- کسانوں سے ملاقات کریں اور زراعت سے جوڑے مسائل کی معلومات کو اکٹھا کریں۔

جواب: -----

-----

2- آپ کے گاؤں کی گرام پنچایت کی تشکیل اور فرائض کے متعلق معلومات اکٹھا کریں۔


جواب: -----

-----

-----

مشقی صفحہ: 02 کرناٹک سماج کے حامی تحریکیں

ذیل میں دئے گئے تصاویر کو پہچان کر انکے حصہ لئے ہوئے تحریکوں اور کارناموں کو لکھیں۔



-----  
-----




-----  
-----




-----  
-----



-----  
-----



-----  
-----



-----  
-----



-----  
-----



-----  
-----



-----  
-----

۱- صحیح جواب کا انتخاب کر کے لکھیں۔

1- بی۔ ڈی۔ جتی ہندوستان کے \_\_\_\_\_ تھے۔

صدر      نائب صدر      وزیر اعظم      وزیر دفاع

2- ایک ایگر \_\_\_\_\_ گنٹوں کا ہوتا ہے۔

20، 30، 40، 50

3 - دیوراج ارس \_\_\_\_\_ میں کرناٹک کے وزیر اعلیٰ تھے۔

1947، 1950، 1974، 1996

4- سن 1975 میں پسماندہ طبقات کمیشن کے صدر \_\_\_\_\_

لیسلی۔ س۔ ملر، ٹی۔ وینکٹسوامی، و. چنپاریڈی، ہل۔ جی. ہاونور

5- انسانی زندگی کا ایک اٹوٹ حصہ ہے۔ \_\_\_\_\_

موبائل، زمین، کار، ہوائی جہاز

II- ایک جملے میں جواب لکھیں۔

1- گیننی نظام سے کیا مراد ہے؟

جواب: \_\_\_\_\_

\_\_\_\_\_

2- انعام منسوخ قانون کب عمل میں آیا؟

جواب: \_\_\_\_\_


\_\_\_\_\_

3 - ہندوستان میں پہلی مرتبہ پسماندہ طبقات کمیشن کا جاری کرنے کا سہرا کن کو جاتا ہے؟

جواب: \_\_\_\_\_

\_\_\_\_\_

III- انکو پہچان کر انکے کارناموں / دین کو لکھیں۔



-----

-----


-----



-----

-----

-----



-----

-----

-----



#### IV - مندرجہ ذیل سوالات کے جوابات دو یا تین جملوں میں دیں۔

1 - 1974 میں جاری کردہ زیادہ سے زیادہ زمین کی حد کے متعلق بتائیں اور اسکے اثرات پر بحث کریں۔

جواب:

---

---

---

2- اہم پیمانہ طبقات کمیشن کے نام لکھیں۔

جواب:

---

---

---

3- جی۔ ہاؤنور کمیشن نے کس طرح پیمانہ طبقات کی نشاندہی کی؟ وضاحت کریں۔

جواب:

---

---

---

#### V- سرگرمی

1 - 1974 کے اراضی اصلاحات قانون کے عوامل کو اکٹھا کریں اور پڑھیں۔

مجھے پہچان کر بتاؤ

میں سمندر کے ساحل میں رہتا ہوں  
میں ایک پرندہ ہونے پر بھی اڑ نہیں پاتا  
اس براعظم میں داخل ہونے والوں کا پہلے میں ہی استقبال کرتا ہوں۔ تو بتاؤ میں کون ہوں۔

اس براعظم کے نزدیک ایک جزیروں اور ساحلوں میں رہتا ہوں  
مسلل شکار کی وجہ سے میرا وجود خطرے میں ہے۔ تو بتاؤ میں کون ہوں۔

II - خانہ پوری کریں۔

1 - دنیا کا سب سے اچھا براعظم۔

2 - براعظم انٹارٹیکا کی بلند ترین چوٹی۔

3 - دنیا کا سب سے کم درجہ حرارت داخل کرنے والا علاقہ۔

4 - سن 1910 میں قطب جنوبی کا پتہ لگانے والا۔

### III- دو یا تین جملوں میں جواب دیں۔

1- براعظم انٹارٹیکا کو اطراف سے گھیرے سمندروں کی فہرست بنائیں۔

2- براعظم انٹارٹیکا کے مختلف ناموں کو لکھیں۔

3- براعظم انٹارٹیکا کے اہم نباتات اور جانوروں کے نام لکھیں۔

4- براعظم انٹارٹیکا میں موجود ہندوستانی سائنسی تحقیقات کے مراکز کے نام لکھیں۔

### IV: وجہ بتائیں۔

براعظم انٹارٹیکا میں سال کے 6 ماہ اندھیرا اور 6 ماہ روشنی/دن ہوتے ہیں۔

۷: ذیل کی تصاویر کو پہچان کر نام لکھیں۔



\*\*\*\*\*