

ಚಟುವಟಿಕೆ ಸಂಖ್ಯೆ:1. ಈ ಕೆಳಗಿನ ಅಂಕಣದಲ್ಲಿ ತಪ್ಪಾದ ಜೋಡಿಯನ್ನು ಗುರುತಿಸಿ.

ಸಹಾಯಕ ಸೈನ್ಯ ಪದ್ಧತಿ	ಲಾರ್ಡ್ ವೆಲ್ಲೆಸ್ಲಿ
ಲಾರ್ಡ್ ಡಾಲ್‌ಹೌಸಿ	ದತ್ತು ಮಕ್ಕಳಿಗೆ ಹಕ್ಕಿಲ್ಲ
1ನೇಯ ಆಂಗ್ಲೋ-ಮರಾಠ ಯುದ್ಧ	ಬೆಸ್ಸೆನ್ ಒಪ್ಪಂದ
ಪಂಜಾಬಿನ ಸಿಂಹ	ರಣಜಿತ್ ಸಿಂಗ್
ಸಹಾಯಕ ಸೈನ್ಯ ಪದ್ಧತಿಗೆ ಒಳಪಟ್ಟ ಮೊದಲ ರಾಜ್ಯ	ಹೈದರಾಬಾದ್

ಚಟುವಟಿಕೆ ಸಂಖ್ಯೆ:2. ಈ ಕೆಳಗಿನ ಖಾಲಿ ಅಂಕಣಗಳನ್ನು ಸೂಕ್ತ ಉತ್ತರಗಳಿಂದ ಪೂರ್ಣಗೊಳಿಸಿ.

ಯುದ್ಧಗಳು	ಒಪ್ಪಂದ	ಕಾರಣಗಳು	ಫರಿಷಾಮಗಳು
1ನೇ ಆಂಗ್ಲೋ ಮರಾಠ ಯುದ್ಧ			
2ನೇ ಆಂಗ್ಲೋ ಮರಾಠ ಯುದ್ಧ			
3ನೇ ಆಂಗ್ಲೋ ಮರಾಠ ಯುದ್ಧ			

ಚಟುವಟಿಕೆ ಸಂಖ್ಯೆ:3. ಹೊಂದಿಸಿ ಬರೆಯಿರಿ.

ಎ ಪಟ್ಟಿ	ಬಿ ಪಟ್ಟಿ	ಉತ್ತರಗಳು
1. ಮೋಂಡಿಯ ವಾಘೆ	ಆ. ಕಿತ್ತೂರು	
2. ವೆಂಕಟಪ್ಪ ನಾಯಕ	ಬಿ. ಅಮರ ಸುಳ್ಳು	
3. ಕಲ್ಯಾಣ ಸ್ವಾಮಿ	ಇ. ಚೆನ್ನಗಿರಿ	
4. ಬೇಡರು	ಈ. ಕೊಪ್ಪಳ	
5. ಡಾಣಿ ಚೆನ್ನಮ್ಮ	ಉ. ಹಲಗಲಿ	
6. ವಿಜಯಪ್ಪ	ಊ. ಸುರಪುರ	

ಚಟುವಟಿಕೆ ಸಂಖ್ಯೆ:4 ಈ ಕೆಳಗಿನ ಚಿತ್ರವನ್ನು ಗಮನಿಸಿ ಮಾಹಿತಿ ಸಂಗ್ರಹಿಸಿರಿ.

ಚಿತ್ರಗಳು	ಮಾಹಿತಿ
	<p>1</p> <p>2</p> <p>3</p> <p>4</p> <p>5</p> <p>6</p> <p>7</p> <p>8</p>
	<p>1</p> <p>2</p> <p>3</p> <p>4</p> <p>5</p> <p>6</p> <p>7</p> <p>8</p>

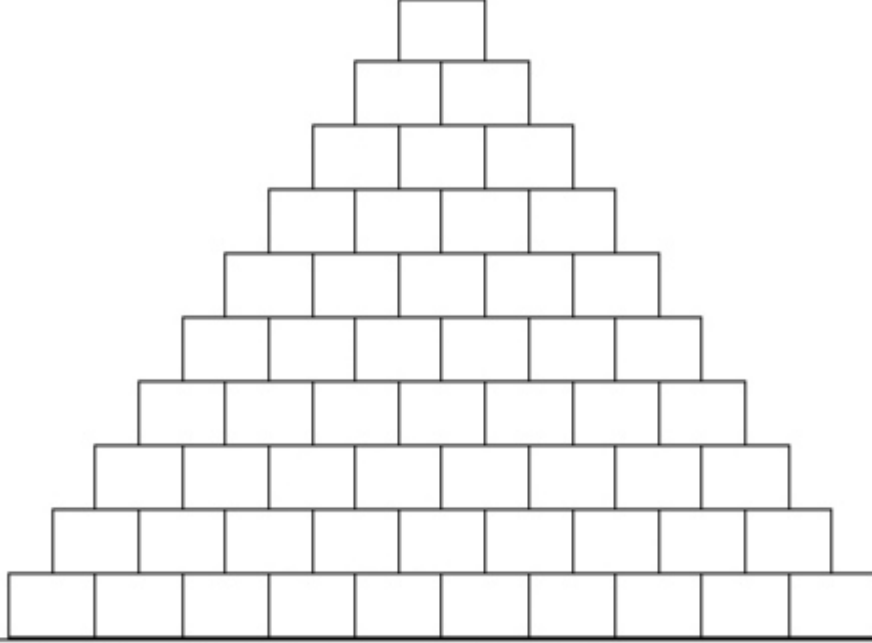
-:ಪುನರಾವರ್ತನ ಚಟುವಟಿಕೆಗಳು: ಮಾರ್ಚ್-2022-

ಚಟುವಟಿಕೆ ಸಂಖ್ಯೆ-5 1857 ರ ದಂಗೆಗೆ ಕಾರಣವಾದ ಅಂಶಗಳನ್ನು ಪಟ್ಟಿಮಾಡಿರಿ..

ರಾಜಕೀಯ ಕಾರಣಗಳು	ಆರ್ಥಿಕ ಕಾರಣಗಳು	ಆಡಳಿತಾತ್ಮಕ ಕಾರಣಗಳು	ಸೈನಿಕ ಕಾರಣಗಳು

ಚಟುವಟಿಕೆ ಸಂಖ್ಯೆ-6. ಈ ಕೆಳಗಿನ ಅಂಶಗಳನ್ನು ಬರೆಯಿರಿ.

1857ರ ದಂಗೆಯ ವಿಫಲತೆಗೆ ಕಾರಣಗಳು	1857ರ ದಂಗೆಯ ಪರಿಣಾಮಗಳು



ಸ್ತಂಭಗಳು :- (ಸೂಚನೆ:-ಆವರಣನಲ್ಲಿರುವುದು ಅಧ್ಯಯನ ಸಂಖ್ಯೆ)

1) 21ಎ ವಿಧಿ ಶಿಕ್ಷಣವು.....ಆಗಿದೆ (6)

2) ವ್ಯಕ್ತಿಗಳು ಸಮಾಜದಲ್ಲಿ ಲಕ್ಷಣಗಳ ಆಧಾರದಲ್ಲಿ ಶ್ರೇಣೀಕರಣಗೊಂಡಿರುವುದನ್ನು ಹೀಗೆನ್ನುತ್ತಾರೆ (9)

3) ಸಮಾನತೆ, ಸಮೂಹ ಭಾಗವಹಿಸುವಿಕೆ, ಅವಕಾಶ, ನ್ಯಾಯದಲ್ಲಿ ಮಹತ್ವದ ಬದಲಾವಣೆ ತರುವಲ್ಲಿ ಆಸರೆ ಯಾಗುವ ಶಕ್ತಿ (3)

4) ಶೂದ್ರರಿಗಿಂತ ಕೆಳಗಿನವರಾದ 5 ವರ್ಗ (5)

5) ಹಿಂದೂ ಸಮಾಜದಲ್ಲಿ ಜಾತಿಯ ಅತ್ಯಂತ ತೀರಸ್ಕಾರಾರ್ಹವಾದ ಅಭಿವ್ಯಕ್ತಿ ಇದು (4)

6) ಅಸ್ವಶ್ಯತೆ ಹಿಂದೂ ಸಮಾಜವನ್ನು ಕುಷ್ಠರೋಗದ ಹುಣ್ಣಿನಂತೆ ಪೀಡಿಸುತ್ತದೆ ಎಂದು ತಿಳಿಸಿದವರು (7)

7) ದಿ ರಿಪಬ್ಲಿಕ್ ಕೃತಿಯ ಕತೃ (2)

8) ವ್ಯಕ್ತಿಯೊಬ್ಬನ ದುಡಿಮೆಗೆ ಪ್ರತಿಯಾಗಿ ಯಾವುದೇ ಪ್ರತಿಫಲ ದೊರೆಯದಿದ್ದರೆ ಆ ದುಡಿಮೆ (10)

9) ಇಬ್ಬರು ವ್ಯಕ್ತಿಗಳು ಒಂದೇ ಕೆಲಸವನ್ನು ಒಂದೇ ಸಮಯಲ್ಲಿ ಮಾಡಿದಾಗ ಒಬ್ಬರಿಗೆ ಹೆಚ್ಚು ವೇತನ, ಮತ್ತೊಬ್ಬರಿಗೆ ಕಡಿಮೆ ವೇತನ ನೀಡುವುದನ್ನು ಹೀಗೆನ್ನುವರು (8)

10) ಅಸ್ವಶ್ಯತಾ ಆಚರಣೆಯನ್ನು ನಿಷೇಧಿಸುವ ವಿಧಿ (1)


-:ಪುನರಾವರ್ತನ ಚಟುವಟಿಕೆಗಳು: ಮಾರ್ಚ್-2022-

ಚಟುವಟಿಕೆ ಸಂಖ್ಯೆ-8 – ಈ ಕೆಳಗೆ ಹೆಸರಿಸಿರುವ ಸ್ವಾತಂತ್ರ್ಯ ಹೋರಾಟಗಾರರಲ್ಲಿ ಮಂದಗಾಮಿ, ತೀವ್ರಗಾಮಿ ಮತ್ತು ಕ್ರಾಂತಿಕಾರಿ ನಾಯಕರನ್ನು ವರ್ಗೀಕರಿಸಿರಿ

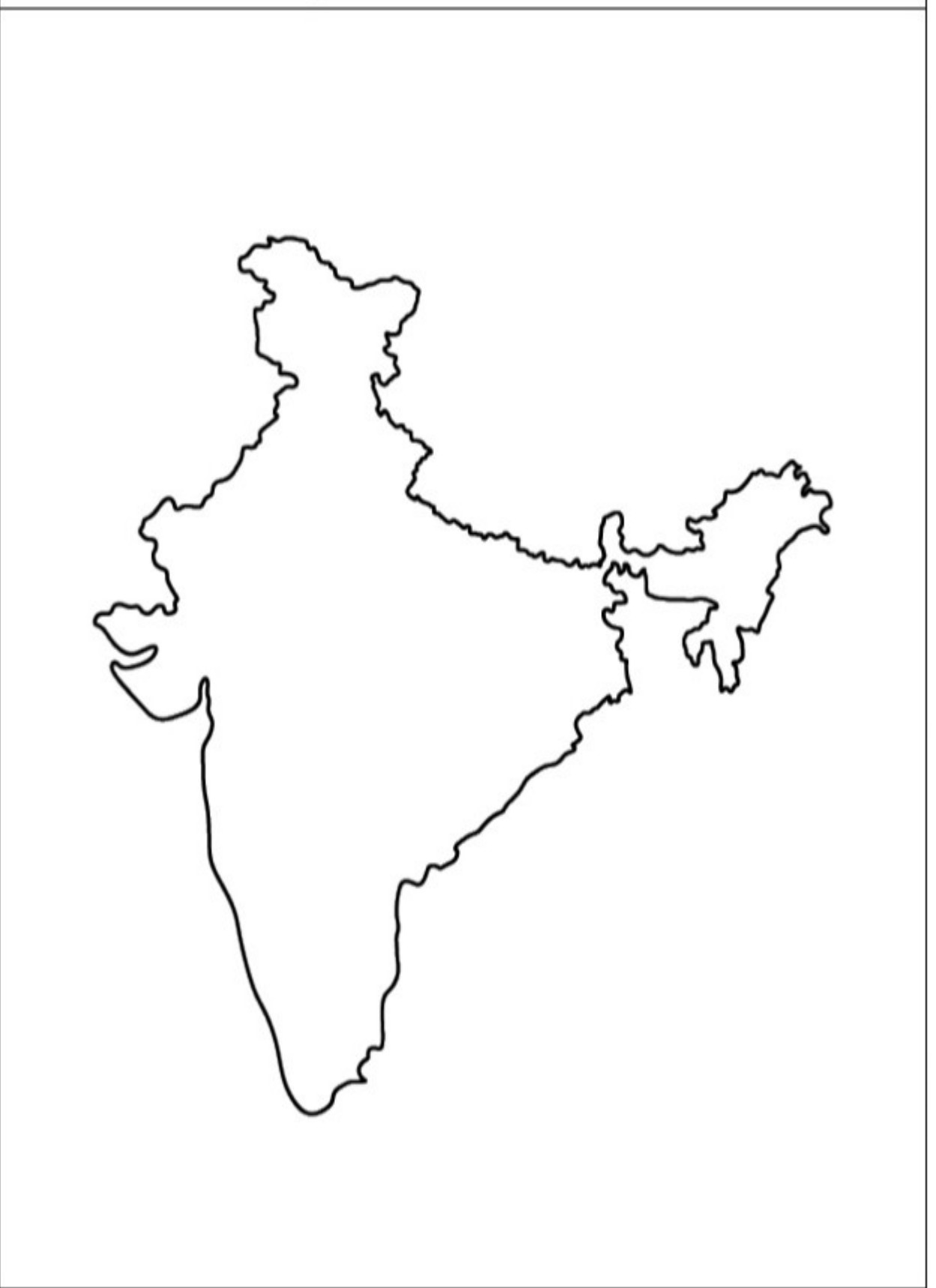
(ಚಂದ್ರಶೇಖರ ಆಜಾದ್ ಎಂ.ಜಿ. ರಾನಡೆ, , ದಾದಾಬಾಯಿ ನವರೋಜಿ, ಲಾಲ ಲಜಪತ ರಾಯ್, ಗೋಪಾಲಕೃಷ್ಣ ಗೋಖಲೆ, ಅರಬಿಂದೋ ಫೋಷ್, , ಬಾಲಗಂಗಾಧರ್ ತಿಲಕ್ ,ವಿ.ಡಿ.ಸಾವರ್ಕರ್, ಅಶ್ವಿನಿಕುಮಾರ ದತ್ತ, ರಾಜನಾರಾಯಣ ಬೋಸ್, ವಿಷ್ಣುಶಾಸ್ತ್ರಿ, ಬಿಪಿನ್ಚಂದ್ರ ಪಾಲ್, ರಾಸ್ ಬಿಹಾರಿ ಬೋಸ್, ಸುರೇಂದ್ರನಾಥ ಬ್ಯಾನರ್ಜಿ, ಮ್ಯಾಡಮ್ ಕಾಮಾ, ಖುದಿರಾಮ್ ಬೋಸ್, ರಾಮ್‌ಪ್ರಸಾದ್ ಬಿಸ್ಮಿಲ್, ಅಶ್ವಮಿಲ್ಲಾಖಾನ್, ಭಗತ್ ಸಿಂಗ್, ಡಬ್ಲ್ಯು ಸಿ ಬ್ಯಾನರ್ಜಿ, ರಾಜಗುರು)

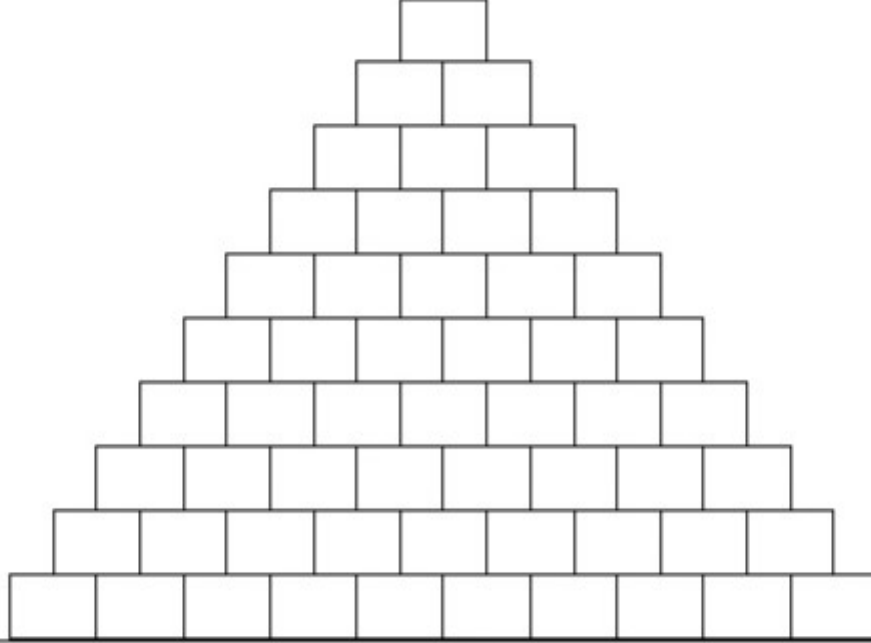
ಮಂದಗಾಮಿ ನಾಯಕರು	ತೀವ್ರ ಗಾಮಿ ನಾಯಕರು	ಕ್ರಾಂತಿಕಾರಿಗಳು

ಚಟುವಟಿಕೆ ಸಂಖ್ಯೆ-9 ನಾನು ಯಾರು? ಸ್ವಾತಂತ್ರ್ಯ ಹೋರಾಟದಲ್ಲಿ ನನ್ನ ಪಾತ್ರವೇನು?

	<u>ಹೆಸರು</u>		<u>ಹೆಸರು</u>
1		1	
2		2	
3		3	
4		4	
5		5	
6		6	
7		7	
8		8	

ಚಟುವಟಿಕೆ ಸಂಖ್ಯೆ-10 ಭಾರತದ ನಕಾಶೆಯಲ್ಲಿ ವಿವಿಧೋದ್ದೇಶ ನದಿ ಕಣಿವೆ ಯೋಜನೆಗಳನ್ನು ಗುರುತಿಸಿ.





ಪ್ರಶ್ನೆಗಳು : - (ಸೂಚನೆ:-ಆನಂದರೂಪಿಗಳಿಗೆ ಅರ್ಜಿಗಳ ಸಂಖ್ಯೆ)

1) 21ಎ ವಿಧಿ ಶಿಕ್ಷಣವು.....ಆಗಿದೆ (6)

2) ವ್ಯಕ್ತಿಗಳು ಸಮಾಜದಲ್ಲಿ ಲಕ್ಷಣಗಳ ಆಧಾರದಲ್ಲಿ ಶ್ರೇಣೀಕರಣಗೊಂಡಿರುವುದನ್ನು ಹೀಗೆನ್ನುತ್ತಾರೆ (9)

3) ಸಮಾನತೆ, ಸಮೂಹ ಭಾಗವಹಿಸುವಿಕೆ, ಅವಕಾಶ, ನ್ಯಾಯದಲ್ಲಿ ಮಹತ್ವದ ಬದಲಾವಣೆ ತರುವಲ್ಲಿ ಆಸರೆಯಾಗುವ ಶಕ್ತಿ (3)

4) ಶೂದ್ರರಿಗಿಂತ ಕೆಳಗಿನವರಾದ 5 ವರ್ಗ (5)

5) ಹಿಂದೂ ಸಮಾಜದಲ್ಲಿ ಜಾತಿಯ ಆತ್ಯಂತ ತಿರಸ್ಕಾರಾರ್ಹವಾದ ಅಭಿವ್ಯಕ್ತಿ ಇದು (4)

6) ಅಸ್ವಶೃತೆ ಹಿಂದೂ ಸಮಾಜವನ್ನು ಕುಪ್ಪರೋಗದ ಹುಣ್ಣಿನಂತೆ ಪೀಡಿಸುತ್ತದೆ ಎಂದು ತಿಳಿಸಿದವರು (7)

7) ದಿ ರಿಪಬ್ಲಿಕ್ ಕೃತಿಯ ಕತೃ (2)

8) ವ್ಯಕ್ತಿಯೊಬ್ಬನ ದುಡಿಮೆಗೆ ಪ್ರತಿಯಾಗಿ ಯಾವುದೇ ಪ್ರತಿಫಲ ದೊರೆಯದಿದ್ದರೆ ಆ ದುಡಿಮೆ (10)

9) ಇಬ್ಬರು ವ್ಯಕ್ತಿಗಳು ಒಂದೇ ಕೆಲಸವನ್ನು ಒಂದೇ ಸಮಯಲ್ಲಿ ಮಾಡಿದಾಗ ಒಬ್ಬರಿಗೆ ಹೆಚ್ಚು ವೇತನ, ಮತ್ತೊಬ್ಬರಿಗೆ ಕಡಿಮೆ ವೇತನ ನೀಡುವುದನ್ನು ಹೀಗೆನ್ನುವರು (8)

10) ಅಸ್ವಶೃತಾ ಆಚರಣೆಯನ್ನು ನಿಷೇಧಿಸುವ ವಿಧಿ (1)

-:ಪುನರಾವರ್ತನ ಚಟುವಟಿಕೆಗಳು: ಮಾರ್ಚ್-2022-

ಚಟುವಟಿಕೆ ಸಂಖ್ಯೆ-12 – ಈ ಕೆಳಗಿನ ಬಾವಚಿತ್ರವನ್ನು ಗಮನಿಸಿ ಹಾಗೂ ಅವರ ಹೆಸರು

ಹಾಗೂ ಉದ್ಯಮವನ್ನು ಬರೆಯಿರಿ

ಭಾವಚಿತ್ರ	ಉದ್ಯಮಿಯ ಹೆಸರು	ಉದ್ಯಮದ ಹೆಸರು
