

GMAT(K-8)

Question Booklet SI. No.

N M M S

DEPARTMENT OF STATE EDUCATIONAL RESEARCH AND TRAINING

NO. 4, 100 FT. RING ROAD, BANASHANKARI, 3RD STAGE, BANGALORE – 560 085

ಎನ್.ಎಂ.ಎಂ.ಎಸ್. ಪರೀಕ್ಷೆಗಳು, ನವೆಂಬರ್, 2013

NMMS EXAMINATION, NOVEMBER 2013

ಪತ್ರಿಕೆ – I/PAPER – I

ತರಗತಿ – 8/CLASS – 8

ಸಾಮಾನ್ಯ ಬೌದ್ಧಿಕ ಸಾಮರ್ಥ್ಯ ಪರೀಕ್ಷೆ /GENERAL MENTAL ABILITY TEST

REGISTER NO. :

1	4	1	1	3						
---	---	---	---	---	--	--	--	--	--	--

ಸಮಯ : 90 ನಿಮಿಷಗಳು

ಇಂಗ್ಲಿಷ್ / ಕನ್ನಡ

ಗರಿಷ್ಠ ಅಂಕಗಳು : 90

TIME : 90 MINUTES

ENGLISH / KANNADA

MAX. MARKS : 90

ಅಭ್ಯರ್ಥಿಗಳಿಗೆ ಸೂಚನೆಗಳು

1. ಬಿಡಿ ಓ.ಎಮ್.ಆರ್. (OMR) ಉತ್ತರ ಪತ್ರಿಕೆ ಮತ್ತು 90 ಪ್ರಶ್ನೆಗಳಿರುವ ಪ್ರಶ್ನೆ ಪುಸ್ತಿಕೆಯನ್ನು ನಿಮಗೆ ನೀಡಲಾಗಿದೆ.
2. ಎಲ್ಲಾ ಪ್ರಶ್ನೆಗಳು ಕಡ್ಡಾಯ, ಪ್ರತಿ ಪ್ರಶ್ನೆಗೆ ಒಂದು ಅಂಕವಿದೆ.
3. ಪರೀಕ್ಷಾ ಅವಧಿಯಲ್ಲಿ,
 - ಪ್ರತಿ ಪ್ರಶ್ನೆಯನ್ನು ಜಾಗರೂಕತೆಯಿಂದ ಓದಿರಿ.
 - ಓ.ಎಮ್.ಆರ್. (OMR) ಪುಟದಲ್ಲಿ ಪ್ರತಿ ಪ್ರಶ್ನೆ ಸಂಖ್ಯೆಗೆ ಸರಿ ಹೊಂದುವ ಉತ್ತರವನ್ನು ಗುರುತಿಸಲು ನೀಡಲಾಗಿರುವ ನಾಲ್ಕು ವೃತ್ತಗಳ ಪೈಕಿ ಸರಿಯಾದ ಉತ್ತರದ ವೃತ್ತವನ್ನು ನೀಲಿ/ಕಪ್ಪು ಶಾಯಿಯ ಬಾಲ್ ಪಾಯಿಂಟ್ ಪೆನ್ ಮಾತ್ರ ಉಪಯೋಗಿಸಿ ಗುರುತು ಮಾಡಿ. ಒಮ್ಮೆ ಉತ್ತರವನ್ನು ಶೇಡ್ ಮಾಡಿದ ಮೇಲೆ ಬದಲಾಯಿಸಲು ಅವಕಾಶವಿಲ್ಲ ಮತ್ತು ಯಾವುದೇ ಅನಗತ್ಯ ಗುರುತುಗಳನ್ನು ಓ. ಎಮ್. ಆರ್. (OMR) ಉತ್ತರ ಪತ್ರಿಕೆಯ ಮೇಲೆ ಮಾಡಕೂಡದು.
 - ಉದಾ : 20 ನೇ ಪ್ರಶ್ನೆಯ ಸರಿ ಉತ್ತರವು ಕ್ರ. ಸಂ. 3 ಆಗಿದ್ದಲ್ಲಿ ಓ.ಎಮ್.ಆರ್. (OMR) ಪುಟದಲ್ಲಿ ಕ್ರ. ಸಂ. 20 ರ ಮುಂದೆ ಈ ರೀತಿ ನೀಲಿ/ಕಪ್ಪು ಬಾಲ್ ಪಾಯಿಂಟ್ ಪೆನ್ ಉಪಯೋಗಿಸಿ ವೃತ್ತವನ್ನು ಗುರುತು ಮಾಡುವುದು. ಈ ಕೆಳಗೆ ತೋರಿಸಿದಂತೆ ಸಂಪೂರ್ಣವಾಗಿ ತುಂಬಬೇಕು.
20. ① ② ● ④ (ಇದು ಉದಾಹರಣೆ ಮಾತ್ರ)
4. ಒಂದು ಪ್ರಶ್ನೆಗೆ ಉತ್ತರವಾಗಿ ಒಂದಕ್ಕಿಂತ ಹೆಚ್ಚು ವೃತ್ತಗಳನ್ನು ಗುರುತು ಮಾಡಿದಲ್ಲಿ ಅಂತಹ ಉತ್ತರಗಳನ್ನು ತಪ್ಪೆಂದು ಪರಿಗಣಿಸಿ ಅಂಕಗಳನ್ನು ನೀಡಲು ಬರುವುದಿಲ್ಲ.
5. ಓ.ಎಮ್.ಆರ್. (OMR) ಪುಟದಲ್ಲಿ ನಿಗದಿತ ಸ್ಥಳದಲ್ಲಿ ಅಭ್ಯರ್ಥಿ ಹಾಗೂ ಕೊಠಡಿ ಮೇಲ್ವಿಚಾರಕರು ತಪ್ಪದೇ ಸಹಿ ಮಾಡಬೇಕು.
6. ಪರೀಕ್ಷಾ ಅವಧಿ ಮುಗಿದ ನಂತರ ಉತ್ತರಿಸಿದ ಓ.ಎಮ್.ಆರ್. (OMR) ಪುಟವನ್ನು ಕೊಠಡಿ ಮೇಲ್ವಿಚಾರಕರಿಗೆ ತಪ್ಪದೇ ಒಪ್ಪಿಸತಕ್ಕದ್ದು.
7. ಪರೀಕ್ಷಾ ಕೊಠಡಿಯೊಳಗೆ, ಕ್ಯಾಲ್ಕುಲೇಟರ್, ಮೊಬೈಲ್ ದೂರವಾಣಿಯನ್ನು (ಇನ್ನಾವುದೇ ಎಲೆಕ್ಟ್ರಾನಿಕ್ ಉಪಕರಣಗಳನ್ನು) ತರುವುದನ್ನು ನಿಷೇಧಿಸಿದೆ.
8. ಅನುವಾದಿತ ಪ್ರಶ್ನೆ ಪತ್ರಿಕೆಗಳಲ್ಲಿ ಯಾವುದೇ ಸಮಸ್ಯೆಗಳು ಉದ್ಭವಿಸಿದಲ್ಲಿ ಪ್ರಶ್ನೆ ಪತ್ರಿಕೆಯ ಇಂಗ್ಲಿಷ್ ರೂಪಾಂತರವೇ ಅಂತಿಮವೆಂದು ತಿಳಿಯಬೇಕು.
9. ಯಾವುದೇ ಭಿನ್ನಾಭಿಪ್ರಾಯಗಳು ಇದ್ದಲ್ಲಿ DSERT ಯಿಂದ ನೇಮಿಸಲ್ಪಟ್ಟ ತಜ್ಞರ ಅಭಿಪ್ರಾಯವೇ ಅಂತಿಮ.

Note : English version of the instructions is printed on the back cover of this booklet.

GMAT(K-8)



SPACE FOR ROUGH WORK

ಚಿತ್ತು ಬರಹಕ್ಕಾಗಿ ಸ್ಥಳ



1. GENERAL MENTAL ABILITY TEST

ಸಾಮಾನ್ಯ ಬೌದ್ಧಿಕ ಸಾಮರ್ಥ್ಯ ಪರೀಕ್ಷೆ

(Questions 1 – 4)

Directions : Complete the following number series by choosing the correct number from the given choices.

(ಪ್ರಶ್ನೆಗಳು 1 – 4)

ಸೂಚನೆಗಳು : ಕೊಟ್ಟಿರುವ ಪರ್ಯಾಯಗಳಿಂದ ಸರಿಯಾದ ಸಂಖ್ಯೆಗಳನ್ನು ಆರಿಸಿ, ಕೆಳಗಿನ ಸಂಖ್ಯಾ ಶ್ರೇಣಿಗಳನ್ನು ಪೂರ್ಣಗೊಳಿಸಿ.

1. 2, 3, 4, 4, 8, 7, 14, 12, ?

- 1) 18
- 2) 19
- 3) 20
- 4) 22

2. 1, 5, 11, 19, ?, 41

- 1) 23
- 2) 27
- 3) 29
- 4) 31

3. 240, ?, 12, 4, 2, 2

- 1) 36
- 2) 48
- 3) 60
- 4) 72

4. 215, ?, 63, 26, 7, 0

- 1) 125
- 2) 124
- 3) 120
- 4) 81



(Questions 5 – 8)

Directions : Find the wrong number in the given series.

(ಪ್ರಶ್ನೆಗಳು 5 – 8)

ಸೂಚನೆಗಳು: ಕೊಟ್ಟಿರುವ ಶ್ರೇಣಿಯಲ್ಲಿ ತಪ್ಪಾದ ಸಂಖ್ಯೆಯನ್ನು ಕಂಡುಹಿಡಿಯಿರಿ.

5. 24, 30, 42, 58, 84

- 1) 30
- 2) 42
- 3) 58
- 4) 84

6. 192, 48, 16, 8, 4

- 1) 4
- 2) 8
- 3) 16
- 4) 48

7. 81, 9, 121, 11, 169, 13, 256, 15

- 1) 9
- 2) 11
- 3) 13
- 4) 15

8. 20, 21, 25, 33, 50, 75

- 1) 25
- 2) 33
- 3) 50
- 4) 75



(Questions 9 – 12)

Directions: Under each given letter series, four alternatives are given. Complete the series by choosing the correct one.

(ಪ್ರಶ್ನೆಗಳು 9 – 12)

ಸೂಚನೆಗಳು: ಕೆಳಗೆ ಕೊಟ್ಟಿರುವ ಪ್ರತಿಯೊಂದು ಅಕ್ಷರ ಶ್ರೇಣಿಗೂ ನಾಲ್ಕು ಪರ್ಯಾಯಗಳನ್ನು ಕೊಟ್ಟಿದೆ. ಸರಿಯಾದುದನ್ನು ಆರಿಸಿ ಶ್ರೇಣಿಯನ್ನು ಪೂರ್ಣಗೊಳಿಸಿ.

9. a b _ d _ b b _ _ b

- 1) b a d a
- 2) a b d b
- 3) a a d d
- 4) d d a a

10. l _ n o _ l m _ o p _ m n

- 1) m p m l
- 2) m p n l
- 3) n m p l
- 4) p n l m

11. r s _ u _ s _ _ r s p

- 1) t r p u
- 2) p u t u
- 3) p r p u
- 4) t t u p

12. b _ d _ d e _ e f _ f g

- 1) d e c c
- 2) c d e f
- 3) d c e f
- 4) c c d e

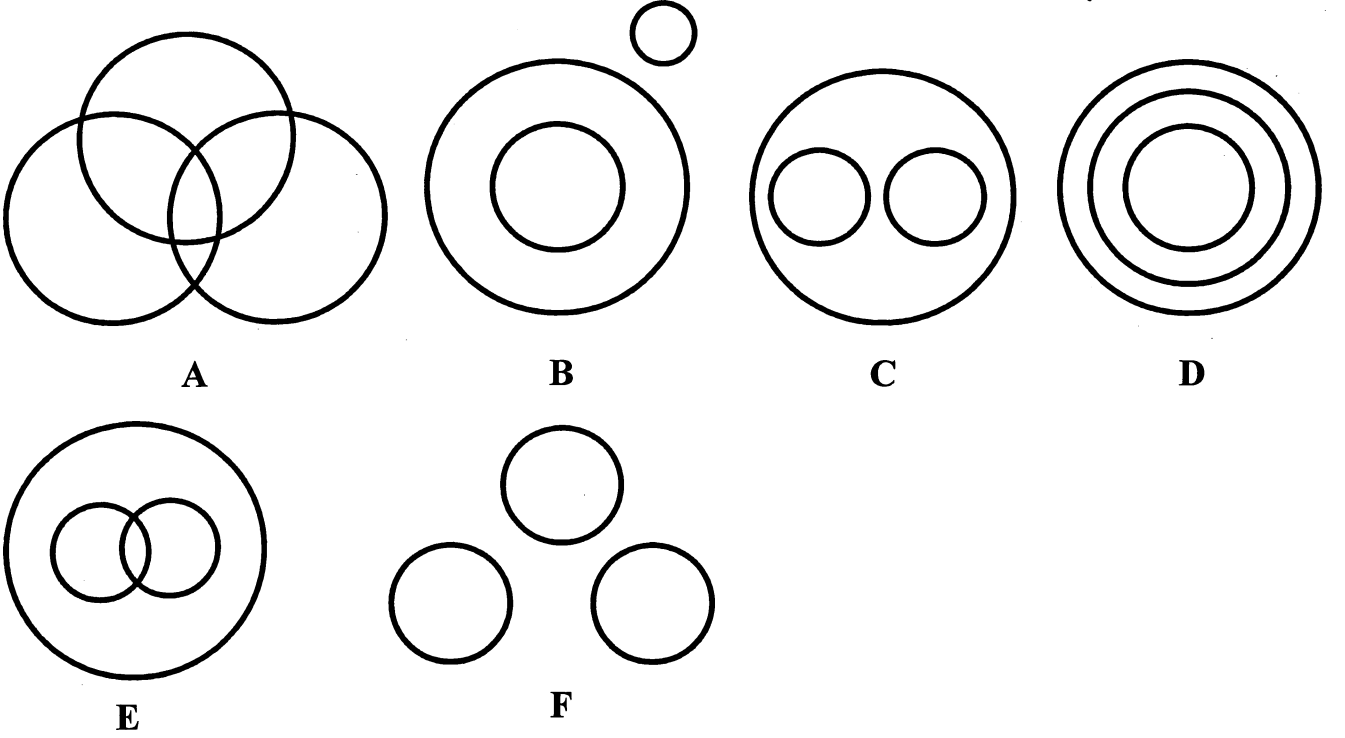


(Questions 13 – 16)

Directions : The following Venn Diagrams shows the relationship among the three given objects. Indicate the appropriate diagram to show the relationship.

(ಪ್ರಶ್ನೆಗಳು 13 – 16)

ಸೂಚನೆಗಳು : ಈ ಕೆಳಗಿನ ವೆನ್ ಚಿತ್ರಗಳು ಪ್ರಶ್ನೆಯಲ್ಲಿರುವ ಮೂರು ವಸ್ತುಗಳಿಗಿರುವ ಸಂಬಂಧವನ್ನು ಸೂಚಿಸುತ್ತದೆ. ಈ ಸಂಬಂಧವನ್ನು ಸೂಚಿಸುವ ಸರಿಯಾದ ಚಿತ್ರವನ್ನು ಗುರುತಿಸಿ.



13. Mammals, Elephants, Dinosaurs

ಸಸ್ತನಿಗಳು, ಆನೆಗಳು, ಡೈನೋಸಾರ್‌ಗಳು

- 1) A
- 2) B
- 3) C
- 4) D

15. Sparrows, Birds, Crows

ಗುಬ್ಬಿಗಳು, ಪಕ್ಷಿಗಳು, ಕಾಗೆಗಳು

- 1) C
- 2) D
- 3) E
- 4) F

14. Women, Mothers, Widows

ಹೆಂಗಸರು, ತಾಯಂದಿರು, ವಿಧವೆಯರು

- 1) C
- 2) D
- 3) E
- 4) F

16. Writers, Teachers, Researchers

ಬರಹಗಾರರು, ಶಿಕ್ಷಕರು, ಸಂಶೋಧಕರು

- 1) A
- 2) B
- 3) C
- 4) D



(Questions 17 – 19)

Directions: In the given questions there are four groups of numbers/ pairs of numbers/group of letters of which three are alike and one is different. Find the one which is different.

(ಪ್ರಶ್ನೆಗಳು 17 – 19)

ಸೂಚನೆಗಳು: ಈ ಕೆಳಗಿನ ಪ್ರಶ್ನೆಗಳಲ್ಲಿ ಪ್ರತಿಯೊಂದರಲ್ಲಿಯೂ ಸಂಖ್ಯೆಗಳು/ಜೋಡಿ ಸಂಖ್ಯೆಗಳು/ಅಕ್ಷರಗಳ ಗುಂಪುಗಳ ನಾಲ್ಕು ಗುಂಪುಗಳನ್ನು ಕೊಟ್ಟಿವೆ. ಇವುಗಳಲ್ಲಿ ಮೂರು ಒಂದು ರೀತಿಯ ಸಂಬಂಧವನ್ನು ಹೊಂದಿರುತ್ತವೆ. ಒಂದು ಮಾತ್ರ ಭಿನ್ನವಾಗಿದೆ. ಭಿನ್ನವಾಗಿರುವುದನ್ನು ಗುರುತಿಸಿ.

17. 1) 8
2) 27
3) 63
4) 125
18. 1) 1, 0
2) 3, 8
3) 7, 48
4) 9, 82
19. 1) P R Q S
2) E G F H
3) I K L J
4) M O N P

GMAT(K-8)



(Questions 20 – 25)

Directions : Complete the given analogy by selecting the correct answers from the alternatives.

20. 343 : 49 :: 216 : ?

- 1) 81
- 2) 64
- 3) 48
- 4) 36

21. 2/3 : 10/30 :: 4/5 : ?

- 1) 20/50
- 2) 40/50
- 3) 68/138
- 4) 64/125

22. 8 : 256 :: 9 : ?

- 1) 81
- 2) 324
- 3) 343
- 4) 729

23. 1/4 : 1/8 :: 2/3 : ?

- 1) 1/4
- 2) 1/3
- 3) 1/2
- 4) 1/6

(ಪ್ರಶ್ನೆಗಳು 20 – 25)

ಸೂಚನೆಗಳು: ಕೊಟ್ಟಿರುವ ಪರ್ಯಾಯಗಳಿಂದ ಸರಿಯಾದ ಉತ್ತರವನ್ನು ಆರಿಸಿ ಕೆಳಗಿನ ಸಾಮ್ಯತೆಯನ್ನು ಪೂರ್ಣಗೊಳಿಸಿ.

24. BDFH : ACEG :: QSUW : ?

- 1) PRTW
- 2) RTVX
- 3) PRTV
- 4) PRVX

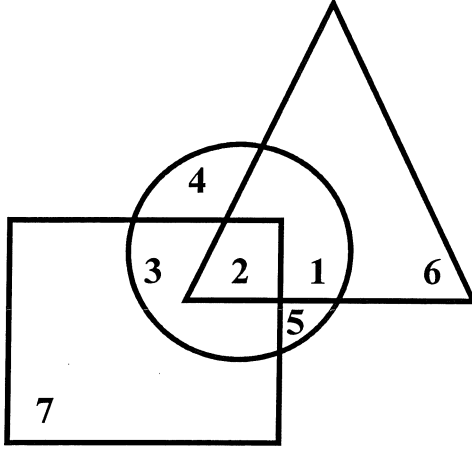
25. BODQ : FSHU :: GTIV : ?

- 1) JXLY
- 2) JWLY
- 3) KXMZ
- 4) MZKW



(Questions 26 – 29)

Directions: The following questions are based on the given diagram below in which each figure represents a group.



(ಪ್ರಶ್ನೆಗಳು 26 – 29)

ಸೂಚನೆಗಳು : ಈ ಕೆಳಗಿನ ಪ್ರಶ್ನೆಗಳು, ಕೊಟ್ಟಿರುವ ಆಕೃತಿಯನ್ನು ಹಾಗೂ ಪ್ರತಿ ಚಿತ್ರವು ಸೂಚಿಸುವ ಗುಂಪನ್ನು ಅಧರಿಸಿದೆ.



Educated Youth
ವಿದ್ಯಾವಂತ ಯುವಕರು



Employed Youth
ಉದ್ಯೋಗಸ್ಥ ಯುವಕರು



Unemployed Youth
ನಿರುದ್ಯೋಗಿ ಯುವಕರು

26. Educated employed youths are represented by the number

ಉದ್ಯೋಗಸ್ಥ ವಿದ್ಯಾವಂತ ಯುವಕರನ್ನು ಪ್ರತಿನಿಧಿಸುವ ಸಂಖ್ಯೆ

- 1) 2
- 2) 3
- 3) 4
- 4) 5

27. Unemployed Educated youths are represented by

ನಿರುದ್ಯೋಗಿ ವಿದ್ಯಾವಂತ ಯುವಕರನ್ನು ಪ್ರತಿನಿಧಿಸುವ ಸಂಖ್ಯೆ

- 1) 1
- 2) 2
- 3) 4
- 4) 5

28. Unemployed and not educated youths are represented by the number

ವಿದ್ಯಾವಂತರಲ್ಲದ ನಿರುದ್ಯೋಗಿ ಯುವಕರನ್ನು ಪ್ರತಿನಿಧಿಸುವ ಸಂಖ್ಯೆ

- 1) 1
- 2) 2
- 3) 5
- 4) 6

29. Employed youths but not educated are represented by the number

ಶಿಕ್ಷಣ ಪಡೆಯದ ಉದ್ಯೋಗಸ್ಥ ಯುವಕರನ್ನು ಪ್ರತಿನಿಧಿಸುವ ಸಂಖ್ಯೆ

- 1) 2
- 2) 3
- 3) 5
- 4) 7

GMAT(K-8)



(Questions 30 – 32)

Directions : Choose and substitute the correct set of signs in place of * sequentially selecting from the given alternatives to make the equations meaningful.

30. $34 * 6 * 5 * 4$

1) =, ×, +

2) =, +, -

3) =, -, ÷

4) ÷, =, +

31. $8 * 3 * 16 * 8$

1) +, =, ÷

2) -, +, =

3) +, -, =

4) ×, =, +

(Questions 33 – 34)

Directions : In the given equation find which of the following interchange of signs/numbers would make the equation correct.

33. $(10 \div 6) + 6 = 24$

1) ÷ and =

2) 6 and 10

3) 10 and 24

4) + and ÷

(ಪ್ರಶ್ನೆಗಳು 30 – 32)

ಸೂಚನೆಗಳು : ಕೊಟ್ಟಿರುವ ಸಮೀಕರಣವನ್ನು ಅರ್ಥಪೂರ್ಣ ಮಾಡಲು, ಕೊಟ್ಟಿರುವ ಯಾವ ಚಿಹ್ನೆಯು ಗಣವನ್ನು * ಜಾಗದಲ್ಲಿ ಕ್ರಮವಾಗಿ ಆದೇಶಿಸಬೇಕು ಎಂಬುದನ್ನು ಪರ್ಯಾಯಗಳಿಂದ ಆರಿಸಿ.

32. $9 * 6 * 3 * 2$

1) +, -, =

2) =, ×, ÷

3) ÷, +, =

4) =, ÷, -

(ಪ್ರಶ್ನೆಗಳು 33 – 34)

ಸೂಚನೆಗಳು : ಕೊಟ್ಟಿರುವ ಸಮೀಕರಣದಲ್ಲಿ ಯಾವ ಚಿಹ್ನೆಗಳು/ಸಂಖ್ಯೆಗಳನ್ನು ಅದಲು ಬದಲು ಮಾಡಿದಾಗ ಸಮೀಕರಣ ಸರಿಯಾಗಿರುತ್ತದೆ ಎಂಬುದನ್ನು ಕಂಡುಹಿಡಿಯಿರಿ.

34. $8 \div 2 - 10 \times 5 = 14$

1) 10 and 8

2) - and ×

3) 2 and 5

4) ÷ and ×

GMAT(K-8)**(Questions 35 – 40)**

Directions: Find the missing number/letter in the given matrices.

35. 25 40 36**3 6 5****4 3 5****13 22 ?**

1) 35

2) 11

3) 9

4) 26

36. 5 ? 4**6 41 5****7 55 6**

1) 20

2) 29

3) 14

4) 36

37. 4 2 14**5 4 21****6 ? 30**

1) 4

2) 5

3) 6

4) 24

(ಪ್ರಶ್ನೆಗಳು 35 – 40)

ಸೂಚನೆಗಳು : ಕೊಟ್ಟಿರುವ ಮಾತೃಕೆಗಳಲ್ಲಿ ಬಿಟ್ಟು ಹೋಗಿರುವ ಸಂಖ್ಯೆ/ಅಕ್ಷರವನ್ನು ಕಂಡುಹಿಡಿಯಿರಿ.

38. 8 18 15**3 4 6****12 36 ?**

1) 21

2) 45

3) 72

4) 90

39. E J O**G K R****H L ?**

1) S

2) T

3) U

4) V

40. M J C**R L F****T H ?**

1) I

2) J

3) K

4) L



(Questions 41 – 42)

Directions : Read the following questions carefully and find the answers.

(ಪ್ರಶ್ನೆಗಳು 41 – 42)

ಸೂಚನೆಗಳು: ಈ ಕೆಳಗೆ ಕೊಟ್ಟಿರುವ ಪ್ರಶ್ನೆಗಳನ್ನು ಗಮನವಿಟ್ಟು ಓದಿ. ಪ್ರತಿಯೊಂದು ಪ್ರಶ್ನೆಗೂ ಉತ್ತರವನ್ನು ಕಂಡುಹಿಡಿಯಿರಿ.

41. Rikitha was born on August 22nd. Prakruthi is younger than Rikitha by 10 days. If the Independence day of that year was on Tuesday, which day is the birthday of Prakruthi ?

- 1) Tuesday
- 2) Wednesday
- 3) Thursday
- 4) Friday

42. Ratio of Shashank's age to Prashanth's is equal to 4 : 3. If Shashank will be 26 years old after 6 years, the present age of Prashanth is

- 1) 11
- 2) 15
- 3) 14
- 4) 13

41. ರಿಕಿತಾ ಆಗಸ್ಟ್ 22 ರಂದು ಜನಿಸಿದ್ದಾಳೆ. ಪ್ರಕೃತಿ ಅವಳಿಗಿಂತ 10 ದಿವಸ ಚಿಕ್ಕವಳು. ಆ ವರ್ಷದ ಸ್ವಾತಂತ್ರ್ಯ ದಿನಾಚರಣೆ ಮಂಗಳವಾರದಂದು ಇದ್ದರೆ, ಪ್ರಕೃತಿಯ ಹುಟ್ಟುಹಬ್ಬ ಯಾವ ದಿನದಂದು ಬರುತ್ತದೆ ?

- 1) ಮಂಗಳವಾರ
- 2) ಬುಧವಾರ
- 3) ಗುರುವಾರ
- 4) ಶುಕ್ರವಾರ

42. ಶಶಾಂಕ್ ಮತ್ತು ಪ್ರಶಾಂತ್‌ರ ವಯಸ್ಸಿನ ಅನುಪಾತ 4 : 3 ಕ್ಕೆ ಸಮನಾಗಿದೆ. 6 ವರ್ಷಗಳ ನಂತರ ಶಶಾಂಕನ ವಯಸ್ಸು 26 ವರ್ಷಗಳಾದರೆ, ಪ್ರಸ್ತುತ ಪ್ರಶಾಂತ್‌ನ ವಯಸ್ಸು ಎಷ್ಟು ?

- 1) 11
- 2) 15
- 3) 14
- 4) 13



(Questions 43 – 46)

Directions : Study the following statements and answer the questions given below.

- 1) A and B play Football and Hockey.
- 2) C and D play Badminton and Cricket.
- 3) B and C play Cricket and Football.
- 4) A and D play Hockey and Badminton.

43. Who plays Badminton, Football and Hockey ?

- 1) A
- 2) B
- 3) C
- 4) D

44. Who plays Badminton, Football and Cricket is

- 1) A
- 2) B
- 3) C
- 4) D

45. Who plays Cricket, Football and Hockey ?

- 1) A
- 2) B
- 3) C
- 4) D

46. Who does not play Cricket ?

- 1) A
- 2) B
- 3) C
- 4) D

(ಪ್ರಶ್ನೆಗಳು 43 – 46)

ಸೂಚನೆಗಳು: ಈ ಮುಂದಿನ ಹೇಳಿಕೆಗಳನ್ನು ಓದಿ ಮತ್ತು ಕೆಳಗಿನ ಪ್ರಶ್ನೆಗಳನ್ನು ಉತ್ತರಿಸಿರಿ.

- 1) ಎ ಮತ್ತು ಬಿ ಫುಟ್‌ಬಾಲ್ ಮತ್ತು ಹಾಕಿ ಆಡುತ್ತಾರೆ.
- 2) ಸಿ ಮತ್ತು ಡಿ ಬ್ಯಾಡ್‌ಮಿಂಟನ್ ಮತ್ತು ಕ್ರಿಕೆಟ್ ಆಡುತ್ತಾರೆ.
- 3) ಬಿ ಮತ್ತು ಸಿ ಕ್ರಿಕೆಟ್ ಮತ್ತು ಫುಟ್‌ಬಾಲ್ ಆಡುತ್ತಾರೆ.
- 4) ಎ ಮತ್ತು ಡಿ ಹಾಕಿ ಮತ್ತು ಬ್ಯಾಡ್‌ಮಿಂಟನ್ ಆಡುತ್ತಾರೆ.

43. ಬ್ಯಾಡ್‌ಮಿಂಟನ್, ಫುಟ್‌ಬಾಲ್ ಮತ್ತು ಹಾಕಿ ಆಟವನ್ನು ಯಾರು ಆಡುತ್ತಾರೆ ?

- 1) ಎ
- 2) ಬಿ
- 3) ಸಿ
- 4) ಡಿ

44. ಬ್ಯಾಡ್‌ಮಿಂಟನ್, ಫುಟ್‌ಬಾಲ್ ಮತ್ತು ಕ್ರಿಕೆಟ್ ಆಟವಾಡುವವರು ಯಾರು ?

- 1) ಎ
- 2) ಬಿ
- 3) ಸಿ
- 4) ಡಿ

45. ಕ್ರಿಕೆಟ್, ಫುಟ್‌ಬಾಲ್ ಮತ್ತು ಹಾಕಿ ಆಟವಾಡುವವರು ಯಾರು ?

- 1) ಎ
- 2) ಬಿ
- 3) ಸಿ
- 4) ಡಿ

46. ಕ್ರಿಕೆಟ್ ಆಟವಾಡದಿರುವ ವ್ಯಕ್ತಿ ಯಾರು ?

- 1) ಎ
- 2) ಬಿ
- 3) ಸಿ
- 4) ಡಿ



(Questions 47 – 50)

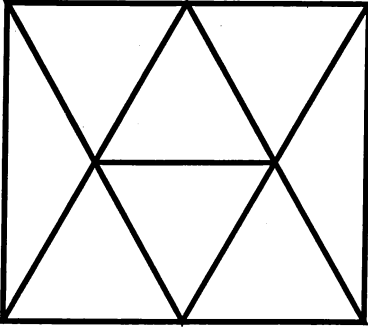
Directions : Identify the number of specified geometric shapes in the given diagram and mark the correct answer.

(ಪ್ರಶ್ನೆಗಳು 47 – 50)

ಸೂಚನೆಗಳು: ಕೆಳಗೆ ಕೊಟ್ಟಿರುವ ಚಿತ್ರಗಳಲ್ಲಿ ಸೂಚಿತ ಜ್ಯಾಮಿತೀಯ ಆಕೃತಿಗಳ ಸಂಖ್ಯೆಯನ್ನು ಕಂಡುಹಿಡಿದು, ಉತ್ತರವನ್ನು ಗುರುತಿಸಿ.

47. How many Triangles are there in the given figure ?

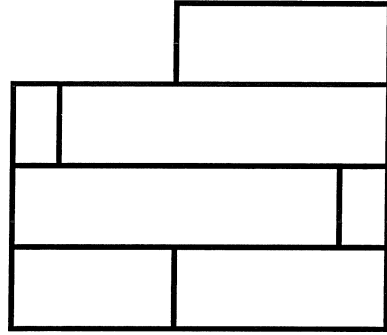
ಕೆಳಗೆ ಕೊಟ್ಟಿರುವ ಆಕೃತಿಯಲ್ಲಿ ಎಷ್ಟು ತ್ರಿಭುಜಗಳಿವೆ ?



- 1) 14
- 2) 16
- 3) 18
- 4) 20

49. How many Rectangles are there in the given figure ?

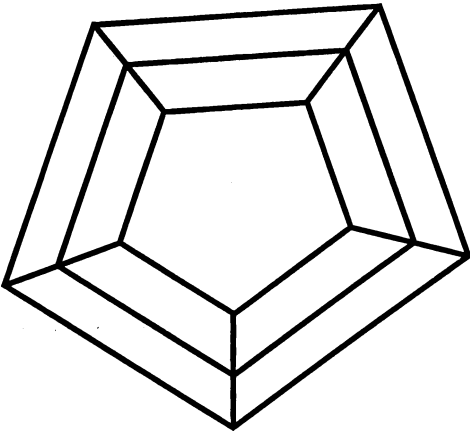
ಕೆಳಗೆ ಕೊಟ್ಟಿರುವ ಆಕೃತಿಯಲ್ಲಿ ಎಷ್ಟು ಆಯತಗಳಿವೆ ?



- 1) 10
- 2) 12
- 3) 13
- 4) 14

48. How many Trapeziums are there in the given figure ?


ಕೆಳಗೆ ಕೊಟ್ಟಿರುವ ಆಕೃತಿಯಲ್ಲಿ ಎಷ್ಟು ತ್ರಾಪಿಜ್ಯಗಳಿವೆ ?



- 1) 10
- 2) 15
- 3) 16
- 4) 18

50. How many Squares are there in the given figure ?

ಕೆಳಗೆ ಕೊಟ್ಟಿರುವ ಆಕೃತಿಯಲ್ಲಿ ಎಷ್ಟು ಚೌಕಗಳಿವೆ ?



- 1) 12
- 2) 13
- 3) 14
- 4) 15



(Questions 51 – 55)

Directions : In the following questions a word is written according to some code. In each question a word is given and find how this can be written in the same code.

51. If JUICE is coded as QFRXV then CAT can be written as

JUICE ಎಂಬ ಪದವನ್ನು **QFRXV** ಎಂದು ಸಂಕೇತೀಕರಿಸಿದರೆ **CAT** ಎಂಬ ಪದವನ್ನು ಹೀಗೆ ಬರೆಯಬಹುದು.

- 1) PNG
- 2) XZG
- 3) XYZ
- 4) NPG

52. If BEAK is coded as ornx, then the word CHALK can be written as

BEAK ಎಂಬ ಪದವನ್ನು **ornx** ಎಂದು ಸಂಕೇತೀಕರಿಸಿದರೆ, **CHALK** ಎಂಬ ಪದವನ್ನು ಹೀಗೆ ಬರೆಯಬಹುದು.

- 1) xrzop
- 2) xropz
- 3) punyx
- 4) pnuxy

(ಪ್ರಶ್ನೆಗಳು 51 – 55)

ಸೂಚನೆಗಳು: ಈ ಕೆಳಗಿನ ಪ್ರಶ್ನೆಗಳ ಒಂದು ಪದವನ್ನು ಸಾಂಕೇತಿಕ ಭಾಷೆಯಲ್ಲಿ ಬರೆಯಲಾಗಿದೆ. ಅದನ್ನು ಅದೇ ಸಾಂಕೇತಿಕ ಭಾಷೆಯಲ್ಲಿ ಹೇಗೆ ಬರೆಯಬಹುದು ಎಂಬುದನ್ನು ಕಂಡುಹಿಡಿದು ಪರ್ಯಾಯಗಳಲ್ಲಿ ಗುರುತಿಸಿ.

53. If HORSE is coded as 8, 15, 18, 19, 5 then ELEPHANT can be coded as

HORSE ಎಂಬ ಪದವನ್ನು **8, 15, 18, 19, 5** ಎಂದು ಸಂಕೇತೀಕರಿಸಿದರೆ **ELEPHANT** ಎಂಬ ಪದವನ್ನು ಹೀಗೆ ಸಂಕೇತಿಸಬಹುದು.

- 1) 5, 12, 5, 15, 8, 1, 13, 20
- 2) 22, 15, 22, 11, 19, 26, 13, 7
- 3) 5, 12, 5, 16, 8, 1, 14, 20
- 4) 5, 15, 5, 11, 19, 26, 13, 7

54. If HOUSE is coded as 68, then what will be the code of RENT ?

HOUSE ಎಂಬ ಪದವನ್ನು **68** ಎಂದು ಸಂಕೇತೀಕರಿಸಿದರೆ, **RENT** ಎಂಬ ಪದದ ಸಂಕೇತವೇನು ?

- 1) 64
- 2) 62
- 3) 58
- 4) 57



55. If ACCOMMODATION is coded as
1224554318647, then the word
ADDICTION can be coded as

ACCOMMODATION ಎಂಬ ಪದವನ್ನು
1224554318647 ಎಂದು ಸಂಕೇತೀಕರಿಸಿದರೆ
ADDICTION ಎಂಬ ಪದವನ್ನು ಹೀಗೆ
ಸಂಕೇತಿಸಬಹುದು.

- 1) 133647628
- 2) 122628647
- 3) 132628647
- 4) 133628647

GMAT(K-8)

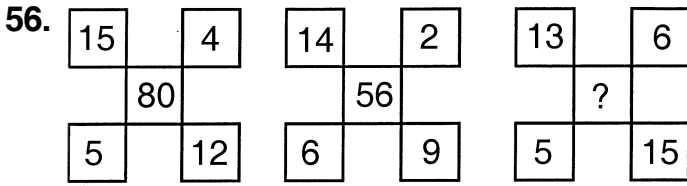


(Questions 56 – 59)

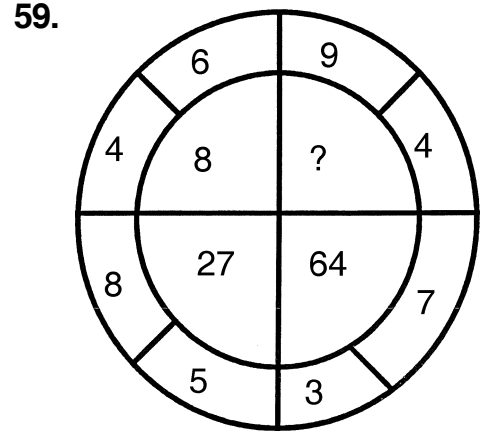
Directions: In the questions below the numbers in the figures are related. Identify their relationship and find the missing numbers in the given figures.

(ಪ್ರಶ್ನೆಗಳು 56 – 59)

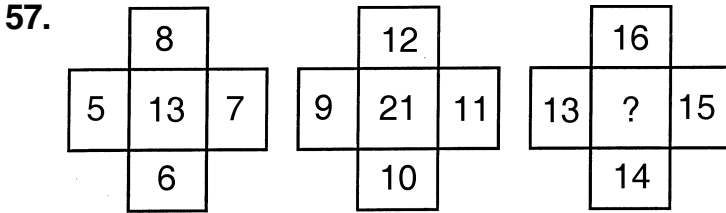
ಸೂಚನೆಗಳು: ಈ ಕೆಳಗೆ ಕೊಟ್ಟಿರುವ ಪ್ರಶ್ನೆಗಳಲ್ಲಿ, ಆಕೃತಿಗಳಲ್ಲಿರುವ ಸಂಖ್ಯೆಗಳು ಹೊಂದಿರುವ ಸಂಬಂಧವನ್ನು ಸೂಚಿಸುತ್ತದೆ. ಈ ಸಂಬಂಧವನ್ನು ಗುರುತಿಸಿ ಚಿತ್ರಗಳಲ್ಲಿ ಬಿಟ್ಟು ಹೋಗಿರುವ ಸಂಖ್ಯೆಗಳನ್ನು ಕಂಡುಹಿಡಿಯಿರಿ.



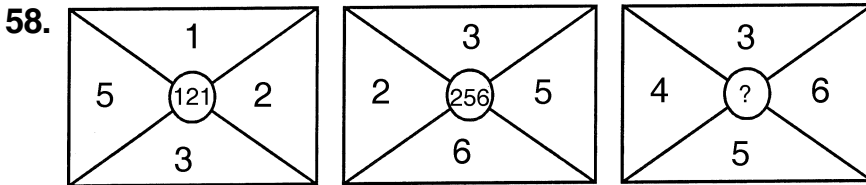
- 1) 165
- 2) 72
- 3) 65
- 4) 25



- 1) 1
- 2) 25
- 3) 125
- 4) 216



- 1) 29
- 2) 28
- 3) 30
- 4) 58



- 1) 196
- 2) 225
- 3) 289
- 4) 324

GMAT(K-8)**(Questions 60 – 62)**

Directions : In column – I words are given. Their codes are given under column – II following the same order as in column – I. Find the codes for the letters of words in column – I and find the codes for given words in the questions.

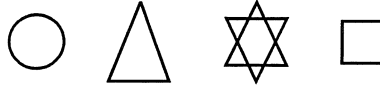
(ಪ್ರಶ್ನೆಗಳು 60 – 62)

ಸೂಚನೆಗಳು : ಸ್ತಂಭ – I ರ ಕೆಳಗೆ ಪದಗಳನ್ನು ಕೊಟ್ಟಿದೆ. ಈ ಪದಗಳ ಸಂಕೇತಗಳನ್ನು ಸ್ತಂಭ – II ರ ಕೆಳಗೆ ಕೊಟ್ಟಿದೆ. ಈ ಸಂಕೇತಗಳು ಪದಗಳಲ್ಲಿರುವ ಅಕ್ಷರಗಳಿಗೆ ಅನುಕ್ರಮವಾಗಿವೆ. ಸ್ತಂಭ – I ರಲ್ಲಿರುವ ಪದಗಳ ಅಕ್ಷರಗಳಿಗೆ ಸಂಕೇತವನ್ನು ಕಂಡುಹಿಡಿದು ಪ್ರಶ್ನೆಗಳಲ್ಲಿ ಕೊಟ್ಟಿರುವ ಪದಗಳಿಗೆ ಸಂಕೇತವನ್ನು ಗುರುತಿಸಿ.

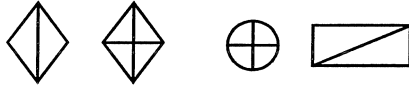
Column – I
ಸ್ತಂಭ – I

Column – II
ಸ್ತಂಭ – II

CAKE



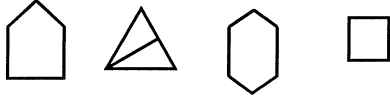
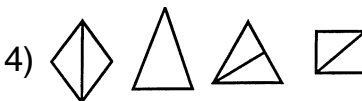
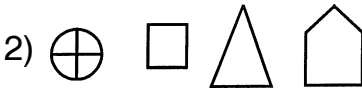
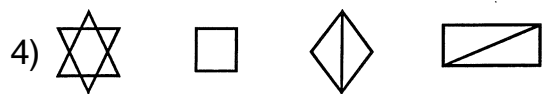
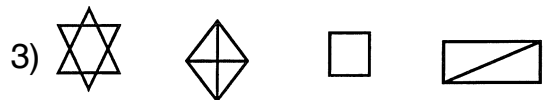
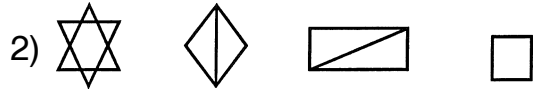
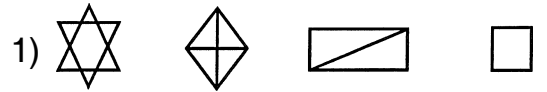
LIFT



ROAD


















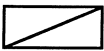
NOSE

**60. LAND****61. KITE**

GMAT(K-8)



62. C O L D

- 1)    
- 2)    
- 3)    
- 4)    



(Questions 63 – 65)

Directions : In the following questions, one of the rules given below has been applied to the set of numbers, identify the correct rule applied to set of numbers in each question.

- I. Subtract twice the number from its square.
- II. Add the number to its square.
- III. Subtract two from twice the number.
- IV. Add twice the number to its square.
- V. Multiply the number by two.

(ಪ್ರಶ್ನೆಗಳು 63 – 65)

ಸೂಚನೆಗಳು : ಈ ಕೆಳಗಿನ ಸಂಖ್ಯಾ ಸಮೂಹಗಳು ಕೆಳಗೆ ಕೊಟ್ಟಿರುವ ನಿಯಮಗಳಲ್ಲಿ ಒಂದನ್ನು ಅಳವಡಿಸಿಕೊಂಡಿದೆ. ಪ್ರತಿ ಪ್ರಶ್ನೆಯಲ್ಲಿರುವ ಸಂಖ್ಯಾ ಸಮೂಹಗಳು ಅಳವಡಿಸಿಕೊಂಡಿರುವ ಸರಿಯಾದ ನಿಯಮವನ್ನು ಗುರುತಿಸಿ.

- I. ಒಂದು ಸಂಖ್ಯೆಯ ವರ್ಗದಿಂದ ಅದರ ಎರಡರಷ್ಟನ್ನು ಕಳೆದಿದೆ.
- II. ಒಂದು ಸಂಖ್ಯೆ ವರ್ಗಕ್ಕೆ ಅದೇ ಸಂಖ್ಯೆಯನ್ನು ಸೇರಿಸಿದೆ.
- III. ಒಂದು ಸಂಖ್ಯೆಯ ಎರಡರಷ್ಟರಿಂದ ಎರಡನ್ನು ಕಳೆಯಲಾಗಿದೆ.
- IV. ಒಂದು ಸಂಖ್ಯೆಯ ವರ್ಗಕ್ಕೆ ಅದರ ಎರಡರಷ್ಟನ್ನು ಕೂಡಿಸಿದೆ.
- V. ಒಂದು ಸಂಖ್ಯೆಯನ್ನು ಎರಡರಿಂದ ಗುಣಿಸಲಾಗಿದೆ.

63. 8, 15, 24, 35

- 1) V
- 2) III
- 3) IV
- 4) II

64. 6, 12, 30, 42

- 1) IV
- 2) V
- 3) I
- 4) II

65. 8, 10, 12, 14

- 1) III
- 2) I
- 3) II
- 4) IV



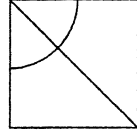
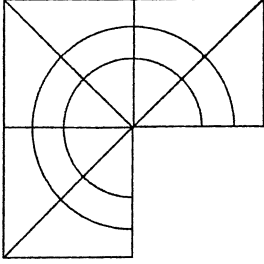
(Questions 66 – 69)

Directions : In questions given part of the figure is missing. Identify the missing part from among the given choices under each question.

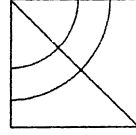
(ಪ್ರಶ್ನೆಗಳು 66 – 69)

ಸೂಚನೆಗಳು: ಈ ಕೆಳಗಿನ ಪ್ರಶ್ನೆಗಳಲ್ಲಿ ಆಕೃತಿಯ ಒಂದು ಭಾಗ ಅಪೂರ್ಣವಾಗಿದೆ. ಅದನ್ನು ಪ್ರತಿಯೊಂದು ಪ್ರಶ್ನೆಯ ಕೆಳಗೆ ಕೊಟ್ಟಿರುವ ನಾಲ್ಕು ಪರ್ಯಾಯಗಳಿಂದ ಗುರುತಿಸಿ.

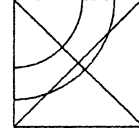
66.



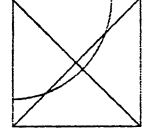
1)



2)

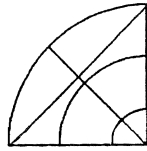
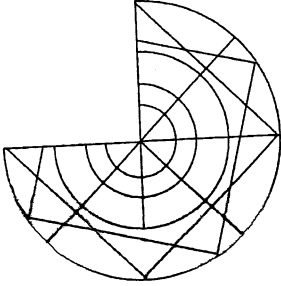


3)

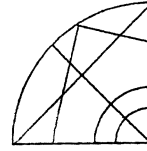


4)

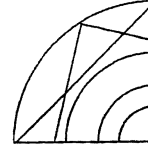
67.



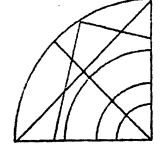
1)



2)





3)

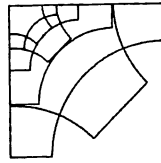


4)

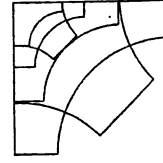
68.



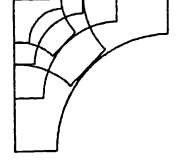
1)



2)

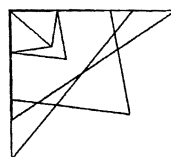
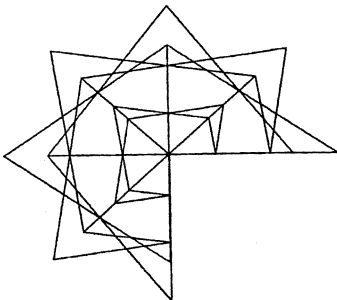


3)

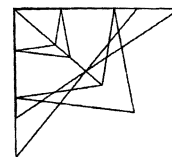


4)

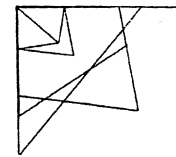
69.



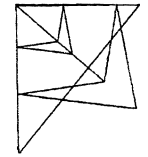
1)



2)



3)



4)



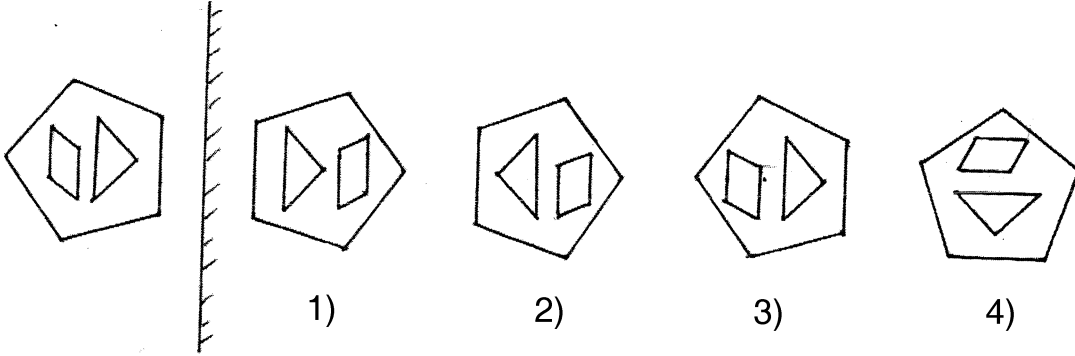
(Questions 70 – 72)

Directions : In the questions given there are figures/words to the left of the mirror indicated by lines and their mirror images are given in one of the four figures/words to the right of these lines. Find the exact mirror image of each figure/word.

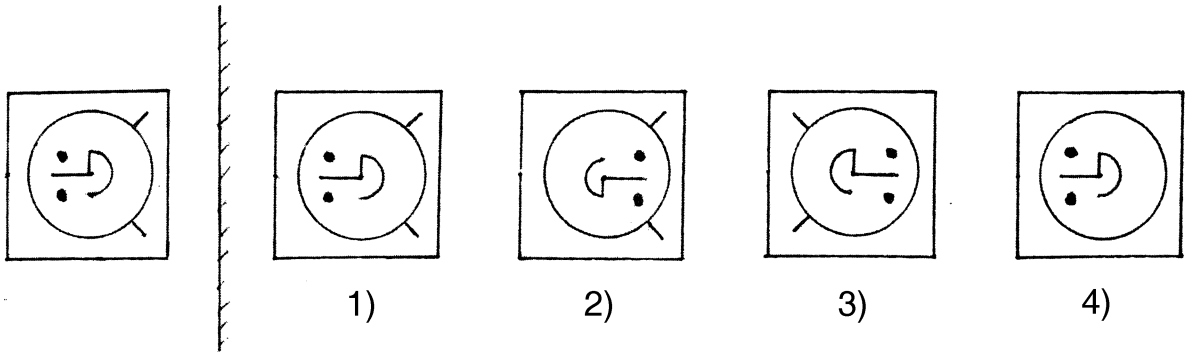
(ಪ್ರಶ್ನೆಗಳು 70 – 72)

ಸೂಚನೆಗಳು: ಕೊಟ್ಟಿರುವ ಪ್ರಶ್ನೆಗಳಲ್ಲಿ, ರೇಖೆಗಳ ಎಡಭಾಗದಲ್ಲಿರುವ ಚಿತ್ರ/ಪದಗಳ ದರ್ಪಣ ಪ್ರತಿಬಿಂಬಗಳನ್ನು ಬಲಭಾಗದಲ್ಲಿ ಕೊಡಲಾಗಿದೆ. ಈ ಎಡಭಾಗದಲ್ಲಿರುವ ಪ್ರತಿಚಿತ್ರ/ಪದದ ಸರಿಯಾದ ದರ್ಪಣ ಪ್ರತಿಬಿಂಬವನ್ನು ಕೊಟ್ಟಿರುವ ಆಯ್ಕೆಗಳಿಂದ ಕಂಡುಹಿಡಿಯಿರಿ.

70.



71.



72.

NORWAL

1) NORWAL

2) NORMAL

3) NORML

4) NORMAL



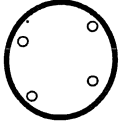
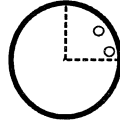
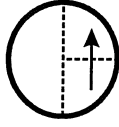
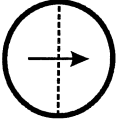
(Questions 73 – 75)

Directions : In the questions given how a sheet of paper is folded and punched is shown by figures. If the paper is unfolded how does it appear ? Select the correct answer form among the alternatives given.

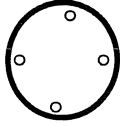
(ಪ್ರಶ್ನೆಗಳು 73 – 75)

ಸೂಚನೆಗಳು : ಕೊಟ್ಟಿರುವ ಪ್ರಶ್ನೆಗಳಲ್ಲಿ ಒಂದು ಕಾಗದದ ಹಾಳೆಯನ್ನು ಮಡಿಸಿ ರಂಧ್ರ ಮಾಡಿರುವುದನ್ನು ಚಿತ್ರಗಳ ಮೂಲಕ ತೋರಿಸಿದೆ. ಪುನಃ ಹಾಳೆಯನ್ನು ಬಿಡಿಸಿದಾಗ ಅದು ಹೇಗೆ ಕಾಣುತ್ತದೆ ಎಂಬುದನ್ನು ನಾಲ್ಕು ಪರ್ಯಾಯಗಳಿಂದ ಆಯ್ಕೆ ಮಾಡಿ.

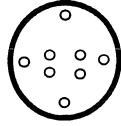
73.



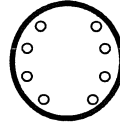
1)



2)

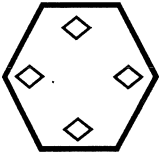
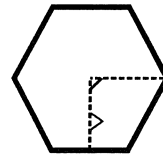
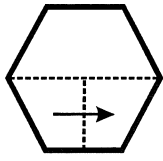
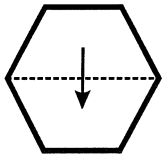


3)

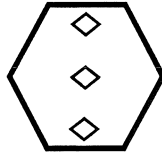


4)

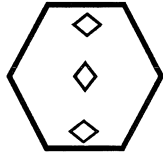
74.



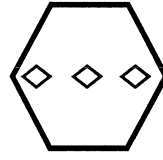
1)



2)

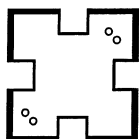
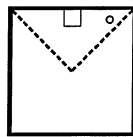
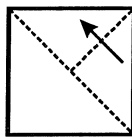
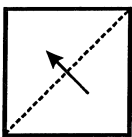


3)

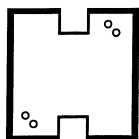


4)

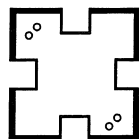
75.



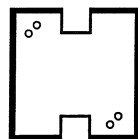
1)



2)



3)



4)



(Questions 76 – 79)

Directions : The questions given consist of series of figures which are incomplete. In order to complete the series, select the correct figure from the given choices.

(ಪ್ರಶ್ನೆಗಳು 76 – 79)

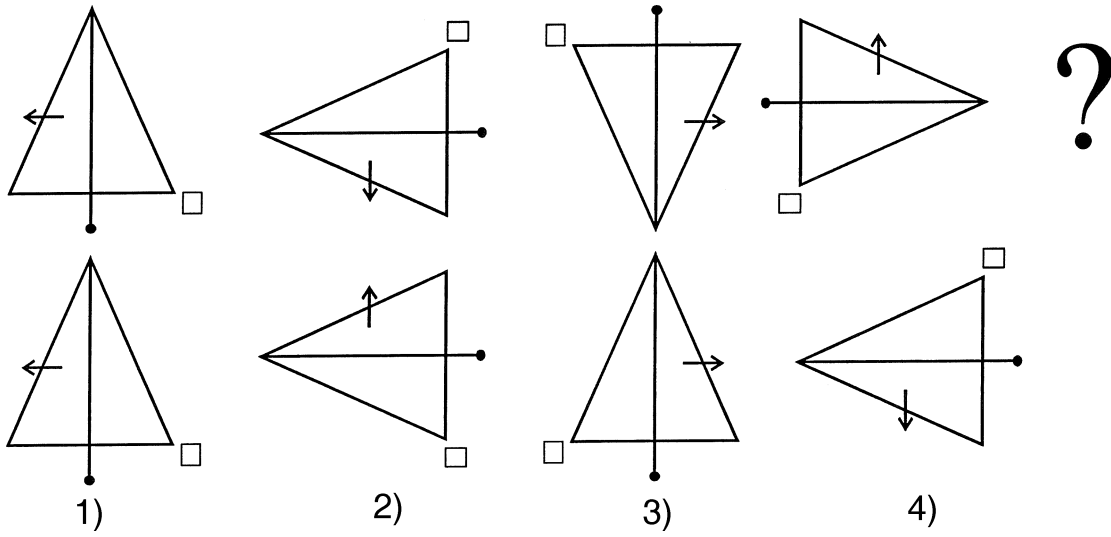
ಸೂಚನೆಗಳು: ಕೊಟ್ಟಿರುವ ಪ್ರಶ್ನೆಗಳಲ್ಲಿ ಆಕೃತಿಗಳ ಶ್ರೇಣಿಯನ್ನು ಕೊಡಲಾಗಿದೆ. ಇದು ಪೂರ್ಣ ಶ್ರೇಣಿಯಲ್ಲ. ಪ್ರತಿ ಪ್ರಶ್ನೆಯಲ್ಲಿ ಶ್ರೇಣಿಯನ್ನು ಪೂರ್ಣಗೊಳಿಸಲು ಕೊಟ್ಟಿರುವ ನಾಲ್ಕು ಪರ್ಯಾಯಗಳಲ್ಲಿ ಸರಿಯಾದುದನ್ನು ಆಯ್ಕೆ ಮಾಡಿ.

76.

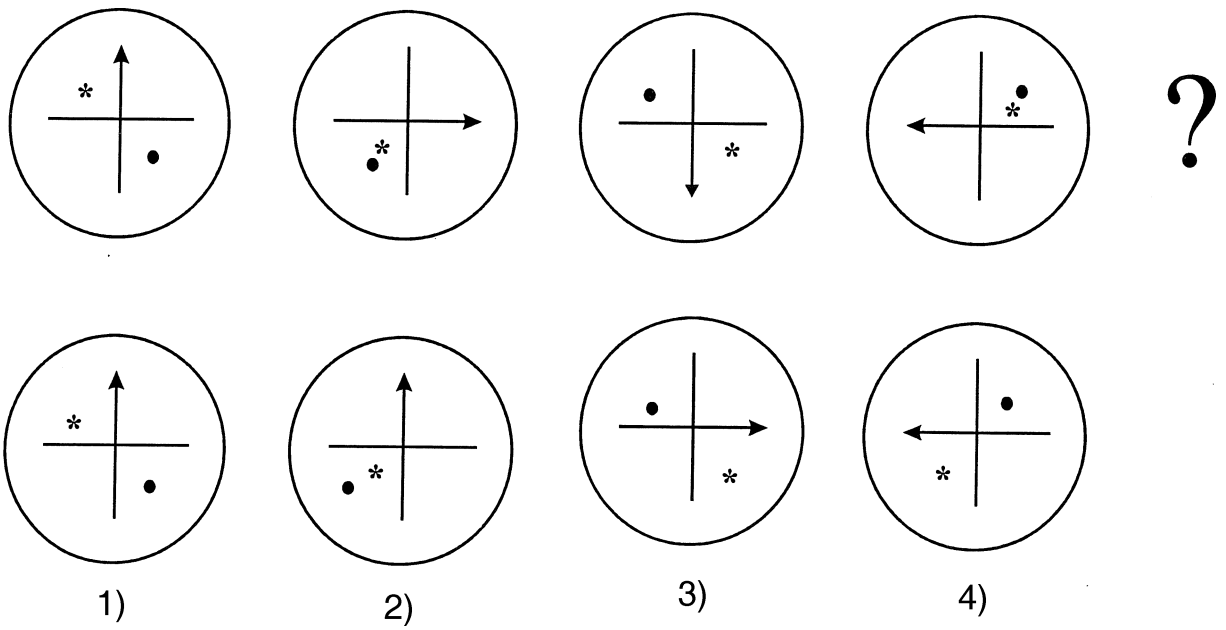
77.



78.



79.





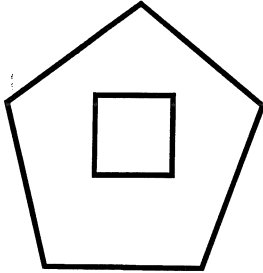
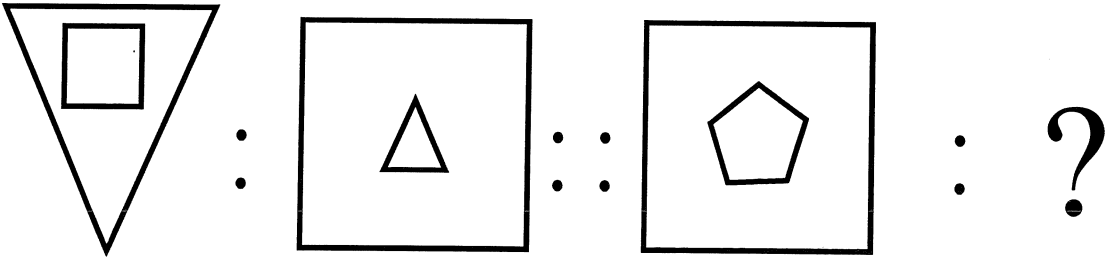
(Questions 80 – 83)

Directions : In the questions there is some relationship between the first two figures. The same relationship holds good for the second set of figures of which one is missing. This missing figure is given as one of the four alternatives. Find the correct answer.

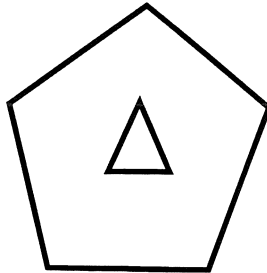
(ಪ್ರಶ್ನೆಗಳು 80 – 83)

ಸೂಚನೆಗಳು : ಕೆಳಗೆ ಕೊಟ್ಟಿರುವ ಪ್ರತಿಯೊಂದು ಪ್ರಶ್ನೆಯಲ್ಲಿಯೂ ಮೊದಲಿನ ಎರಡು ಆಕೃತಿಗಳಿಗೆ ಸಂಬಂಧವಿದೆ. ಇದೇ ಸಂಬಂಧವು ಎರಡನೇ ವರ್ಗದ ಎರಡು ಆಕೃತಿಗಳಲ್ಲಿದೆ. ಒಂದನ್ನು ಕೊಟ್ಟಿರುವುದಿಲ್ಲ. ಪ್ರತಿಯೊಂದು ಪ್ರಶ್ನೆಯ ಕೆಳಗೆ ಕೊಟ್ಟಿರುವ ನಾಲ್ಕು ಪರ್ಯಾಯಗಳಲ್ಲಿ ಸರಿಯಾದುದನ್ನು ಆಯ್ಕೆಮಾಡಿ.

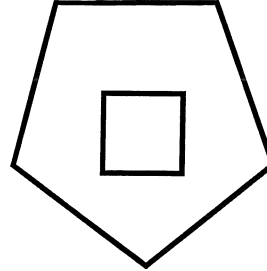
80.



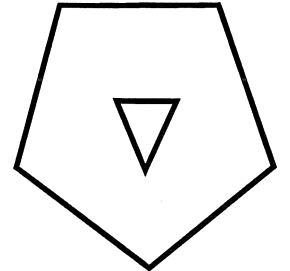
1)



2)


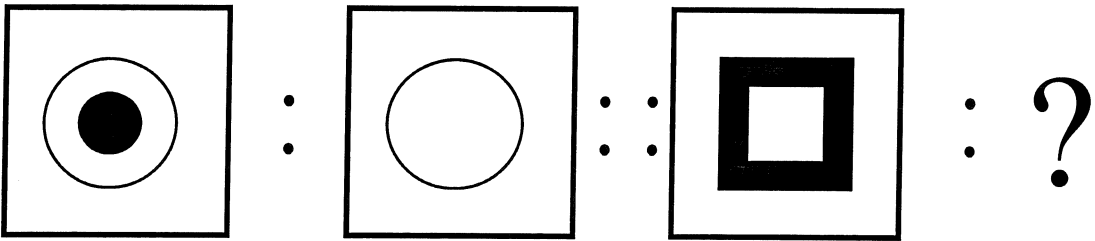


3)

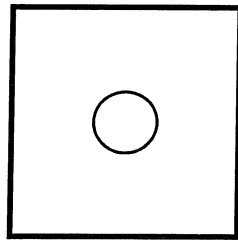


4)

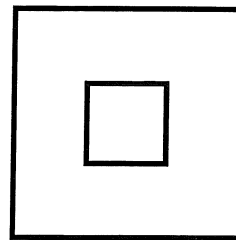
81.




1)



2)



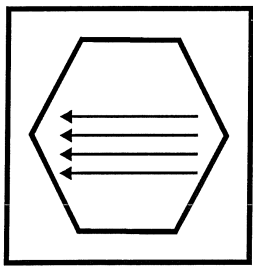
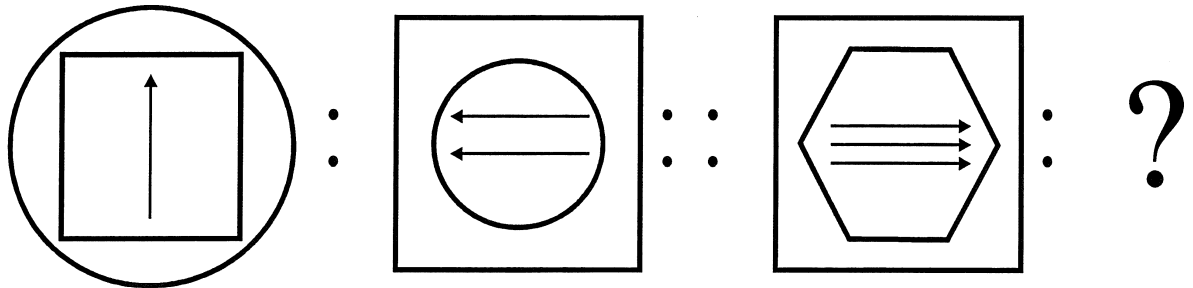
3)



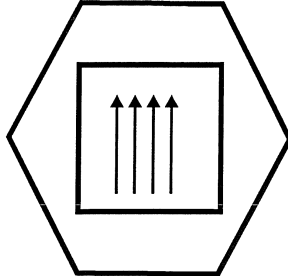
4)



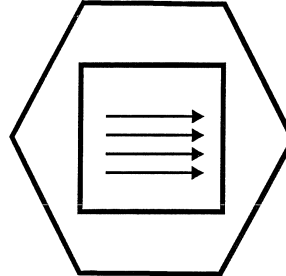
82.



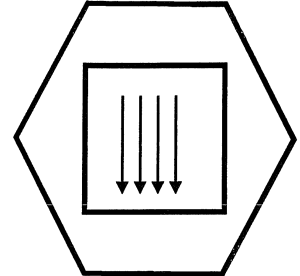
1)



2)

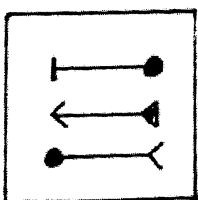
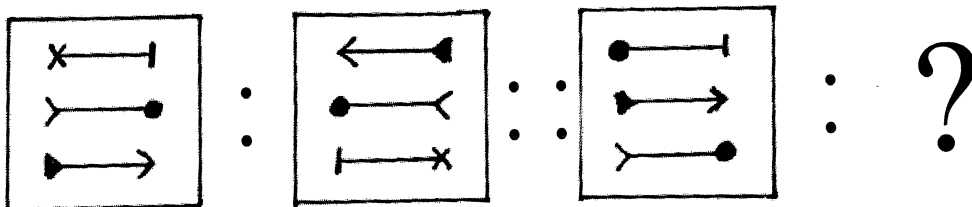


3)

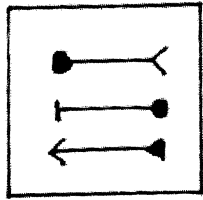


4)

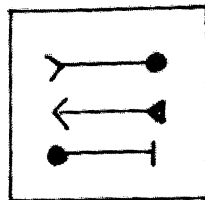
83.



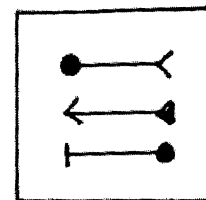
1)



2)



3)



4)



(Questions 84 – 85)

Directions : In the following questions two figures (a and b) are given as problem figures. Which of the following alternative figures would be formed if the first figure is superimposed on the second figure ?

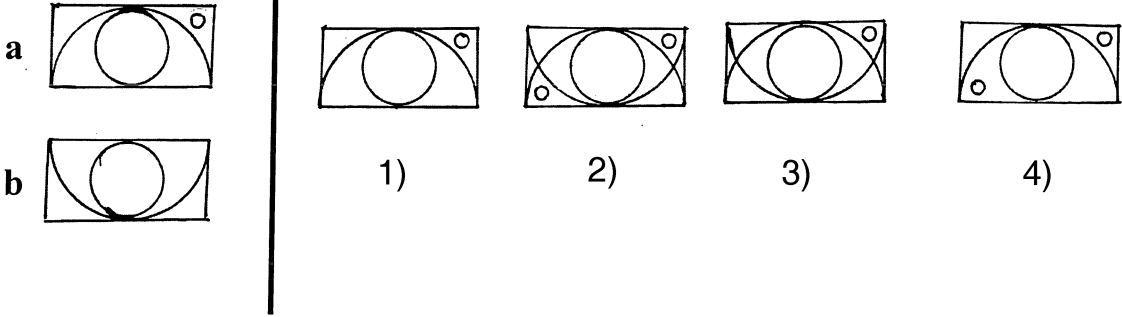
(ಪ್ರಶ್ನೆಗಳು 84 – 85)

ಸೂಚನೆಗಳು: ಈ ಕೆಳಗೆ ಎರಡು ಚಿತ್ರಗಳ (a ಮತ್ತು b)ನ್ನು ಪ್ರಶ್ನಾ ಚಿತ್ರಗಳಾಗಿ ಕೊಟ್ಟಿದೆ. ಈ ಚಿತ್ರಗಳಲ್ಲಿ ಮೊದಲನೆಯ ಚಿತ್ರವನ್ನು ಎರಡನೆಯ ಚಿತ್ರದ ಮೇಲೆ ಸರಿಯಾಗಿ ಇಟ್ಟಾಗ ಕೊಟ್ಟಿರುವ ಪರ್ಯಾಯಗಳಲ್ಲಿ ಯಾವ ಚಿತ್ರವು ರಚಿಸಲ್ಪಡುತ್ತದೆ ?

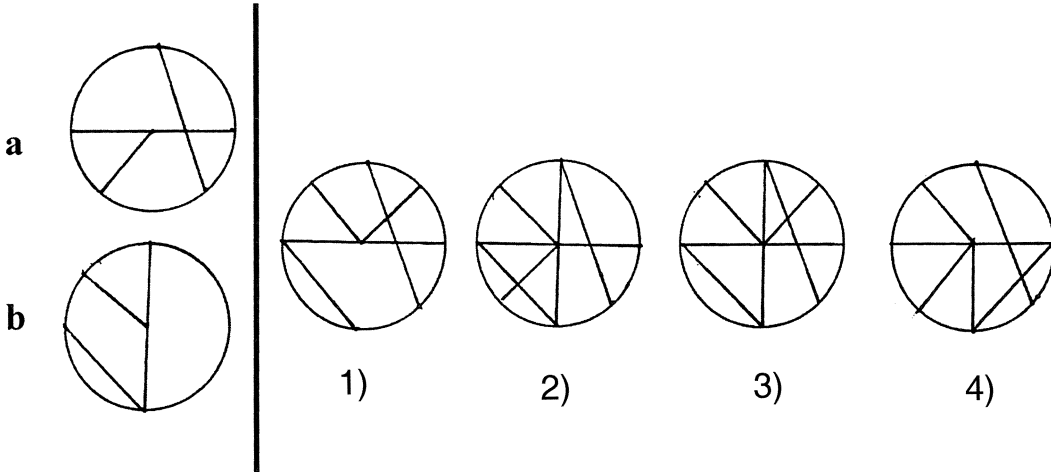
Problem Figures :

ಪ್ರಶ್ನಾ ಚಿತ್ರಗಳು :

84.



85.






(Questions 86 – 87)

Directions : In each of the questions there are four figures. Among these three are alike in some way, while one is different. Find the figure which is different.


(ಪ್ರಶ್ನೆಗಳು 86 – 87)

ಸೂಚನೆಗಳು: ಈ ಕೆಳಗಿನ ಪ್ರಶ್ನೆಗಳಲ್ಲಿ ಪ್ರತಿಯೊಂದರಲ್ಲಿಯೂ ನಾಲ್ಕು ಆಕೃತಿಗಳಿವೆ. ಇವುಗಳ ಪೈಕಿ ಮೂರು ಒಂದು ರೀತಿಯಲ್ಲಿ ಸದೃಶವಾಗಿವೆ. ಆದರೆ ಒಂದು ಮಾತ್ರ ವಿಭಿನ್ನವಾಗಿದೆ. ಈ ವಿಭಿನ್ನವಾಗಿರುವುದನ್ನು ಕಂಡುಹಿಡಿಯಿರಿ.


86.




1)



2)




3)

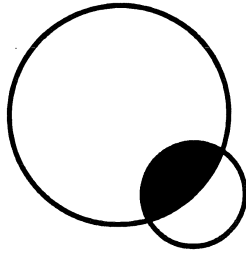


4)

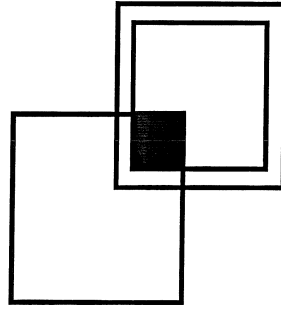
87.



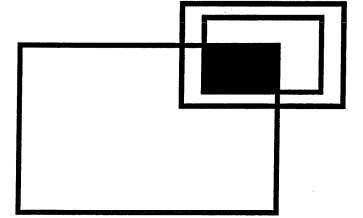
1)



2)



3)



4)



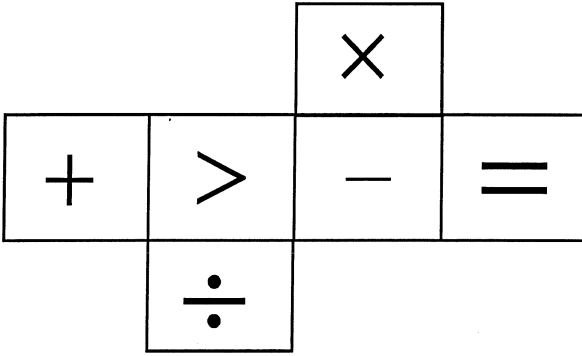
(Questions 88 – 90)

Directions : Given questions are related to Cubes. A sheet of paper as shown in the figures is folded so as to form a cube. Identify the faces and select the correct answer from the four alternatives in which the pairs of faces are opposite.

(ಪ್ರಶ್ನೆಗಳು 88 – 90)

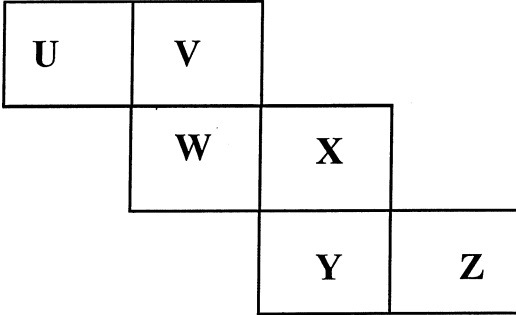
ಸೂಚನೆಗಳು : ಈ ಕೆಳಗೆ ಕೊಟ್ಟಿರುವ ಪ್ರಶ್ನೆಗಳು ಘನಾಕೃತಿಗೆ ಸಂಬಂಧಿಸಿದವು. ಒಂದು ಕಾಗದದ ಹಾಳೆಯನ್ನು ಚಿತ್ರದಲ್ಲಿ ತೋರಿಸಿರುವಂತೆ ಮಡಿಸಿದಾಗ ಘನಾಕೃತಿಯನ್ನು ಉಂಟುಮಾಡುತ್ತದೆ. ಅದರ ಮುಖಗಳನ್ನು ಗಮನಿಸಿದಾಗ ಅಭಿಮುಖವಾಗಿರುವ ಜೋಡಿಮುಖಗಳನ್ನು ಹೊಂದಿದ ಉತ್ತರವನ್ನು ಆಯ್ಕೆ ಮಾಡಿ.

88.



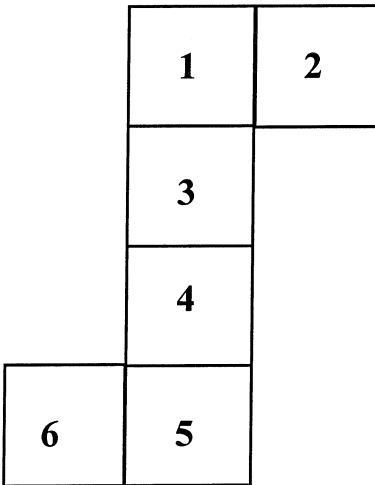
- 1) +, × : ÷, - : >, =
- 2) ÷, × : +, > : -, =
- 3) +, - : ×, = : >, -
- 4) +, - : >, = : ×, ÷

89.



- 1) U, W ; V, Y; X, Z
- 2) X, Z; W, Y; U, V
- 3) U, X; V, Y; W, Z
- 4) U, X; W, Y; V, Z

90.



- 1) 4, 6 ; 1, 5 ; 3, 2
- 2) 1, 4 ; 3, 5 ; 6, 2
- 3) 1, 6 ; 3, 5 ; 4, 2
- 4) 1, 5 ; 2, 4 ; 3, 6

GMAT(K-8)



SPACE FOR ROUGH WORK

ಚಿತ್ತು ಬರಹಕ್ಕಾಗಿ ಸ್ಥಳ

**Instructions to Candidates**

1. The question booklet containing 90 questions and the OMR answer sheet is given to you.
2. All questions are compulsory, each question carry one mark.
3. During the examination,
 - Read the questions carefully.
 - Completely darken/shade the relevant oval against question No. in the OMR answer sheet, using blue/black ball point pen. Do not try to alter the entry and not do any stray marks on the OMR sheets.
 - Ex: In an question paper if Sl. No. 3 is correct answer for Question No. 20, then darken OMR answer sheet using blue/black ball point pen as follows.

20. ① ② ● ④ (This is an example only)

4. If more than one oval is darkened for a given question, such answer is treated as wrong and no marks will be given.
5. The candidate and Room Supervisor should sign in the OMR sheet.
6. Candidate should return the OMR answer sheet only to the room supervisor before leaving the examination hall.
7. The calculator, mobiles and any other electronic equipments are not allowed inside the examination hall.
8. English version of the question paper will be considered as final, in case of any dispute arising out of variation in translated version.
9. In case of any dispute the opinion of the experts appointed by DSERT will be final.

ಗಮನಿಸಿ : ಸೂಚನೆಗಳ ಕನ್ನಡ ಆವೃತ್ತಿಯು ಈ ಪುಸ್ತಿಕೆಯ ಮುಂಭಾಗದಲ್ಲಿ ಮುದ್ರಿಸಲ್ಪಟ್ಟಿದೆ.